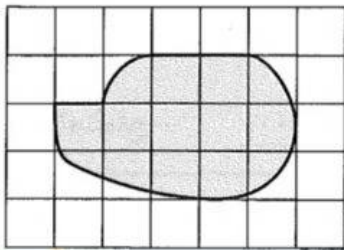


المساحة

اسم الطالبة :

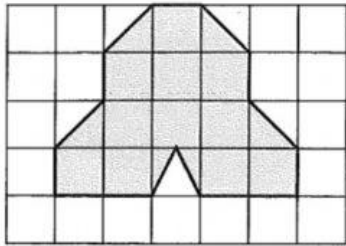


١ قَدِّر مساحة الشكل المجاور، إذا كان كلُّ مربعٍ يمثل ستمترًا مربعًا واحدًا.



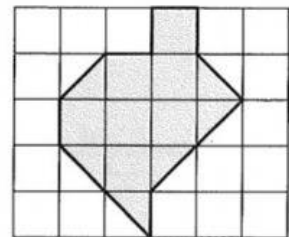
- (أ) ١٠ وحداتٍ مربعةٍ. (ب) ١٣ وحدةً مربعةً.
(ج) ١١,٥ وحدةً مربعةً. (د) ١٥ وحدةً مربعةً.

١ قَدِّر مساحة الشكل المجاور، إذا كان كلُّ مربعٍ يمثل ستمترًا مربعًا واحدًا:



- (أ) ١٠ سم^٢ (ب) ١٢ سم^٢.
(ج) ١٣ سم^٢. (د) ١٣,٥ سم^٢.

أوجد مساحة كلِّ شكلٍ من الشكلين الآتيين:



٥ = وحدة مربعة

معلمة المادة : زهور يوسف هوسه