



Control 1 sumativo: Los números del 0 al 10

Objetivo: Evaluar lo aprendido sobre los números del 0 al 10.

Nombre: \_\_\_\_\_ Curso: 1° \_\_\_\_\_




1. Une con una línea recta, según corresponda.

6

2

5

9



2. Ordena de menor a mayor, arrastrando los números. ● ●

9	1	6	4
---	---	---	---

\_\_\_\_\_

3. Ordena de mayor a menor, arrastrando los números. ● ●

3	6	9	8
---	---	---	---



\_\_\_\_\_

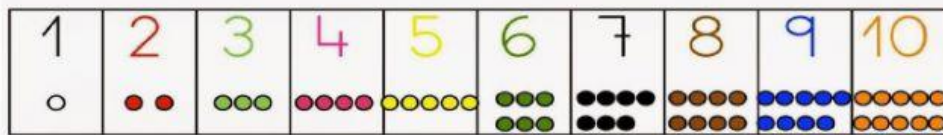
4. Arrastra los símbolos  $>$ ,  $<$ ,  $=$  para indicar cuál es mayor.


a) 6 \_\_\_\_\_ 9

b) 10 \_\_\_\_\_ 5

c) 4 \_\_\_\_\_ 4

5. Observa la siguiente recta numérica e indica que número viene antes  o  del número indicado.







7

\_\_\_\_\_

3


\_\_\_\_\_





9

\_\_\_\_\_



6

\_\_\_\_\_