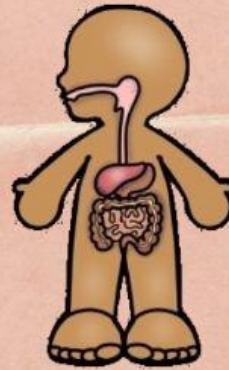
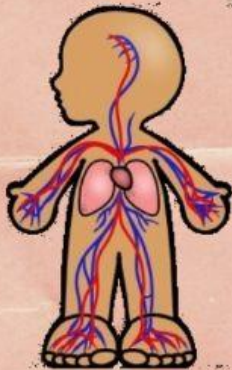
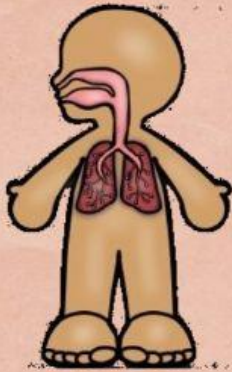


# LOS ÓRGANOS QUE LA COMPONEN

## Función de NUTRICIÓN

Relaciona cada aparato con su nombre y su definición



APARATO  
EXCRETOR

Convertir los  
alimentos en  
nutrientes

APARATO  
DIGESTIVO

Coger oxígeno  
y expulsar  
dióxido de  
carbono

APARATO  
RESPIRATORIO

Transportar los  
nutrientes y el  
oxígeno.  
Almacenar los  
deshechos.

APARATO  
CIRCULATORIO

Expulsar los  
deshechos