

Evaluación de Historia, geografía y Cs. Sociales. 4° básico 2021

Objetivos:

- OA 7: Distinguir hemisferios, círculo del Ecuador, trópicos, polos, continentes y océanos del planeta en mapas y globos terráqueos.
- OA 8: Identificar y ubicar en mapas las principales zonas climáticas del mundo, y dar ejemplos de distintos paisajes que pueden encontrarse en estas zonas y de cómo las personas han elaborado diferentes estrategias para habitarlos

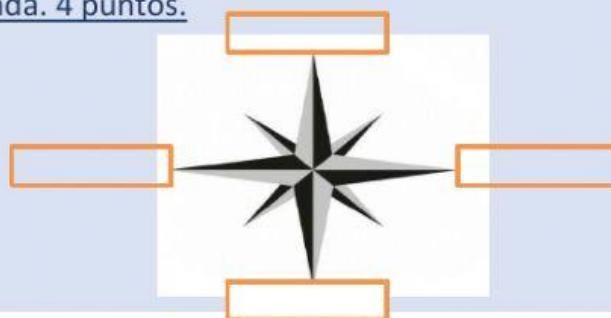
Instrucciones

- 1.- Lee comprensivamente cada pregunta, sigue las instrucciones de cada ítem.
- 2.- Una vez terminada la evaluación revisa cada pregunta y asegúrate de contestar todo.
- 3.- has clic en terminar.

UNIDAD CERO.

PUNTAJE IDEAL 31 PUNTOS PUNTAJE OBTENIDO _____, EXIGENCIA 60%

- I. Completa la rosa de los vientos, ubica los carteles según corresponda. 4 puntos.



Observa la siguiente imagen. Luego, reconoce los puntos cardinales.



- II. Completa las oraciones. Con respecto al niño: 4pts

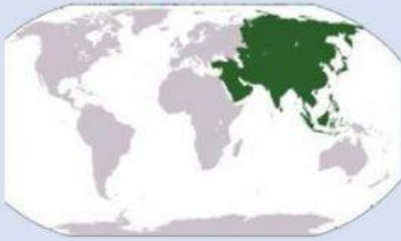
Las montañas se encuentran al

Los árboles están al

La laguna está al

La ciudad se encuentra al

III.- Une la imagen con el nombre del continente que corresponda. 5pts.



AMÉRICA



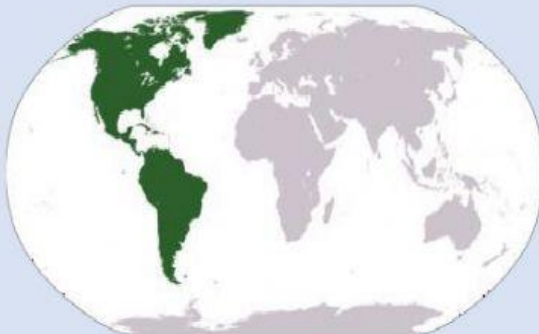
ASIA



AFRICA



EUROPA



OCEANÍA

III. Observa y luego arrastra el nombre de los océanos según corresponda. 9 pts.

OCÉANO
PACÍFICO

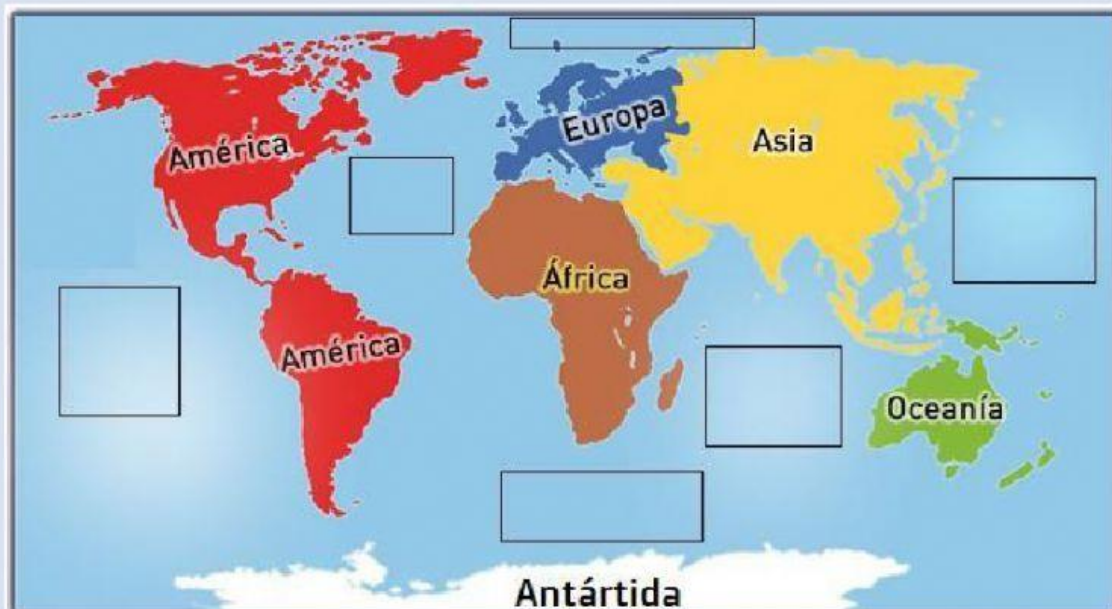
OCÉANO
PACÍFICO

OCÉANO
ATLÁNTICO

OCÉANO
ÍNDICO

OCÉANO GLACIAL
ANTÁRTICO

OCÉANO GLACIAL
ÁRTICO



 **LIVEWORKSHEETS**

IV. Observa y luego arrastra el nombre de los océanos según corresponda. 6 pts

Círculo polar
Ártico

Círculo polar
Antártico

Eje
terrestre

Meridiano de
Greenwich

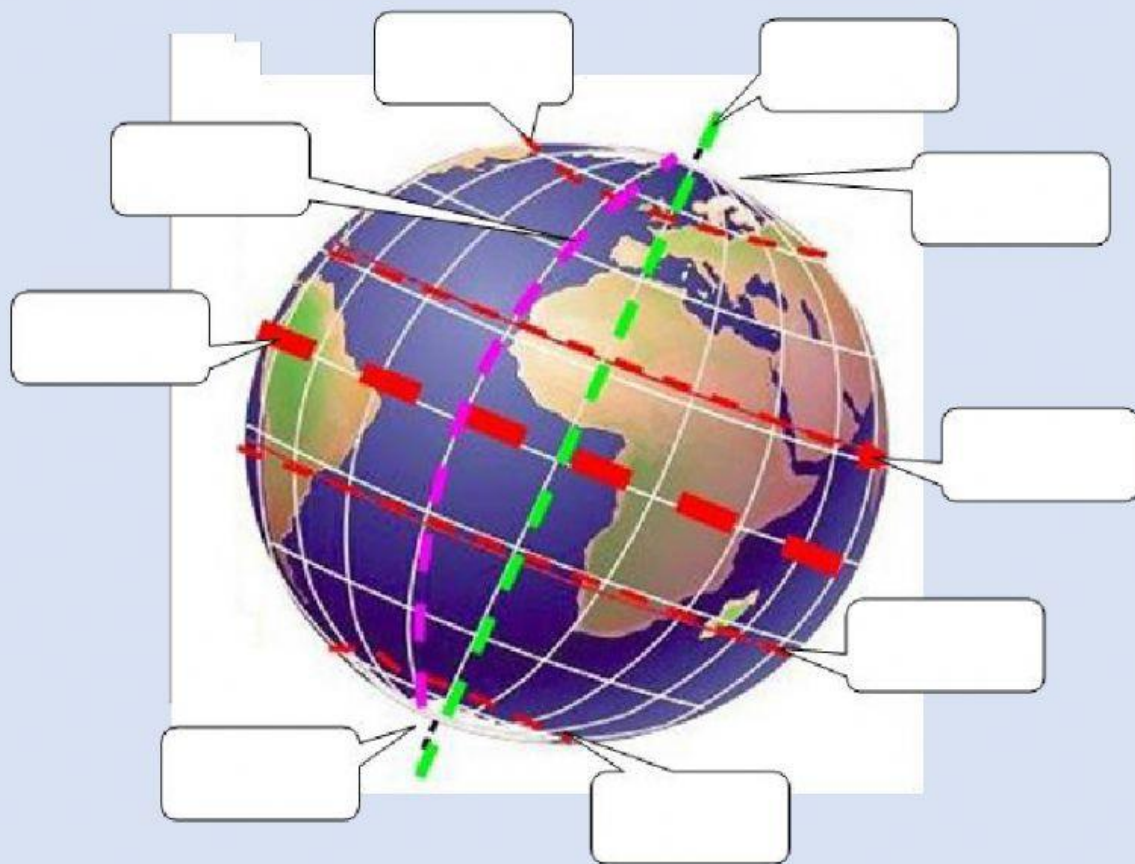
Línea del
Ecuador

Trópico de
Cáncer

Trópico de
Capricornio

Polo Norte

Polo Sur



- V. Escribe los nombres de las zonas climáticas de la tierra. 5 pts. (ZONA TEMPLADA DEL NORTE, ZONA FRÍA DEL NORTE, ZONA CÁLIDA, ZONA TEMPLADA DEL SUR Y ZONA FRÍA DEL SUR).

