


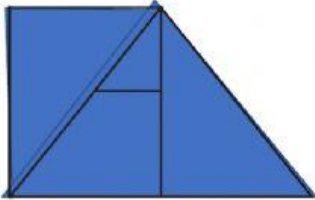
¡PIENSO Y RAZONO!

1. ¿Cuántos rectángulos hay?



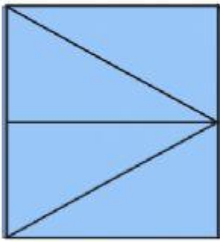
- a) 8
- b) 6
- c) 7
- d) 5

2. Hallar el número de triángulos en:




- a) 3
- b) 4
- c) 5
- d) 8

3) ¿Cuántos triángulos hay en la figura?



- a) 12
- b) 7
- c) 6
- d) 5

4) ¿Cuántos cuadriláteros hay en la figura?



- a) 4
- b) 3
- c) 2
- d) 5