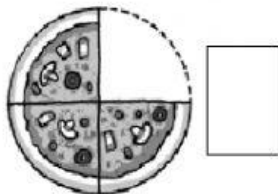


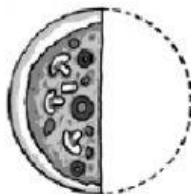
FRACCIONES

1. Escribe la fracción de piza que hay en cada una de las opciones.

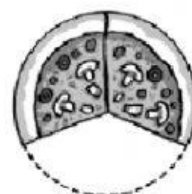
a



b



c



2. Completa la tabla escribiendo el numerador y el denominador:

Fracción	$\frac{3}{4}$	$\frac{2}{6}$	$\frac{1}{3}$	$\frac{7}{8}$	$\frac{2}{16}$
Numerador					
Denominador					

3. ¿Cómo escribirías éstas fracciones?

• Un medio

• Dos tercios

• Cinco octavos

• Tres quintos

• Cuatro sextos

4. Observa el dibujo y contesta.



a) ¿Qué fracción de las canicas son de color blanco?

b) ¿Qué fracción son de color negro?

5. Roberto tenía 12 € en la hucha, pero se ha gastado la cuarta parte en un cómic. ¿Cuánto se ha gastado? ¿Cuánto le queda?



Gastó 9 euros y le quedan 3 euros

Gastó 4 euros y le quedan 8 euros

Gastó 3 euros y le quedan 9 euros

Gastó 10 euros y le quedan 2 euros