



## TEMA 7 LAS FRACCIONES 6

### 1.- Ordena las fracciones de mayor a menor

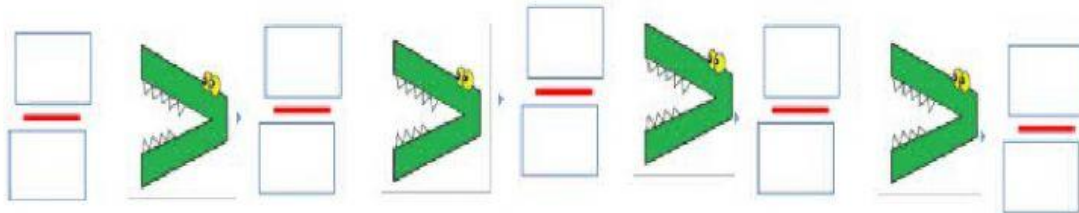
$$\frac{2}{7}$$

$$\frac{4}{7}$$

$$\frac{1}{7}$$

$$\frac{5}{7}$$

$$\frac{6}{7}$$



### 2.- Problema

Alberto dedica  $\frac{2}{5}$  de su tiempo libre a la lectura, mientras que Marcos le dedica  $\frac{3}{5}$ . ¿Quién dedica más tiempo a leer?

### 3.- Escribe lo que falta


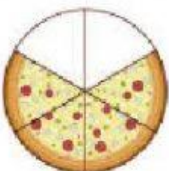
a)  $\frac{7}{8} \leftrightarrow \dots\dots\dots$

b)  $\frac{\square}{6} \leftrightarrow$  cinco  $\dots\dots\dots$

c)  $\frac{\square}{\square} \leftrightarrow$  dos novenos

d)  $\frac{4}{\square} \leftrightarrow \dots\dots\dots$  décimos

### 4.- Escribe con letra la fracción de los trozos QUE FALTAN



5.- Escribe cómo se leen las siguientes fracciones.

