

LEMBAR KERJA PESERTA DIDIK (LKPD)

NAMA :
KELAS : 5-A
TEMA : 9. Benda-benda disekitar kita
SUB TEMA : 2. Benda dan kegiatan ekonomi
PEMBELAJARAN : 5-6

A. KOMPETENSI DASAR DAN INDIKATOR PENCAPAIAN

- a. Bahasa Indonesia
3.4 Menganalisis informasi yang disampaikan paparan iklan dari media cetak atau elektronik.
 - menjelaskan informasi-informasi penting dan isi iklan dengan tepat.
 - menyimpulkan isi iklan dengan tepat
- b. IPA
3.9 Mengelompokkan materi dalam kehidupan sehari-hari berdasarkan komponen penyusunnya (zat tunggal dan campuran).
 - mengidentifikasi komponen penyusun zat campuran dan ciri-ciri zat campuran dengan tepat.
 - menuliskan sifat atau ciri-ciri zat campuran dengan tepat.
- b. SBdP
3.3 Memahami pola lantai dalam tari kreasi daerah.
 - menjelaskan pola lantai gerak tari dengan tepat.
 - menuliskan bentuk pola lantai tari dengan tepat.
 - mengidentifikasi pola lantai tari pada gambar dengan tepat.
- c. PKN
3.4 Menggali manfaat persatuan dan kesatuan untuk membangun kerukunan hidup
 - menjelaskan cara menciptakan kerukunan saat di lingkungan rumah, sekolah, dan masyarakat secara tepat.
 - mengidentifikasi perilaku yang mencerminkan persatuan dan kesatuan dengan tepat.
 - menuliskan manfaat hidup rukun dengan benar.

B. PEMBELAJARAN LIMA

Silakan simak video pembelajaran tema 9 sub tema 2 PB 5 dibawah ini!



1. Amati iklan dibawah ini!



1. Kesimpulan dari iklan disamping adalah . . .

2. Amati iklan dibawah ini!



2. Tuliskanlah beberapa informasi yang kamu temukan pada iklan disamping!

3. Amati campuran dibawah ini!



3. Tuliskan komponen-komponen penyusun campuran disamping!




4. Simaklah penjelasan tentang sifat-sifat dan ciri-ciri campuran dari video dibawah ini!



Setelah menyimak video tersebut diatas maka berikan tanda ceklis ✓ dibawah ini yang merupakan sifat dan ciri-ciri campuran baik itu campuran heterogen ataupun campuran homogeny.

- Campuran atas dua atau lebih unsur senyawa
- Campuran dapat dipisahkan menjadi zat-zat penyusunnya
- Perbandingan masa zat-zat penyusunnya tidak tetap
- Sifat campuran sama dengan sifat zat-zat penyusunnya
- Sifat campuran yang menyatu dan tidak bisa dipisah
- Sifat campuran jika dicampur menyatu dan tidak bisa di pisah lagi

5. Amati gambar gerak tari dibawah ini kemudian tarik jenis pola lantai yang digunakan kekolom yang dibagian keterangan!

		Partikal
		Horizontal
		Segi lima

B. PEMBELAJARAN ENAM

6. Tari pendet berasal dari daerah

- Bali
- Sumatera Barat
- Sumatera Utara
- Jawa Barat

7. Saling menghormati, saling membantu dan saling menyayangi merupakan cerminan dari

- Sosialisasi
- Hidup rukun
- Ateisme
- Sosialisme

8. Amati gambar dibawah ini! dari gambar dibawah ini yang mencerminkan hidup rukun adalah



9. Dengarkan iklan elektronik dari radio di bawah ini!



Tuliskan informasi dari paparan iklan eklektronik diatas!

10. Jodohkan jenis campuran dibawah ini dengan gambar yang tepat

Gambar


CXX




Sirup (cairan)


Susu (cairan)


Kopi (cairan)


Air


Mentega (padat)


Gula


Tepung

Jenis campuran
Homogen
heterogen
Homogen
Heterogen