

Pengetahuan Bahan Tekstil

Nama:

Berikan tanda centang pada kotak dibawah ini yang termasuk 3 garis besar penggolongan jenis benang!

☐ Benang Dasar☐ Benang Sulam☐ Benang Karet☐ Benang Bertekstur☐ Benang Hias☐ Benang Makrame

Cocokkanlah kotak kanan dengan kotak kiri sesuai dengan fungsi setiap struktur dari benang hias!

Benang Pertama

Berfungsi menyatukan kedua benang pertama

Benang Kedua

Berguna sebagai dasar atau menjadi tumpuan atau tempat membelitnya benang-benang tuggal lainnya

Benang Ketiga

Menciptakan efek-efek khusus

Sesuaikan gambar berikut dengan benang yang digunakan dengan cara memindahkan kotak jawaban kedalam kotak kosong yang ada.



Benang Bordir

Benang Karet

Benang Sulam

Sesuaikan gambar berikut dengan benang yang digunakan dengan cara memindahkan kotak jawaban kedalam kotak kosong yang ada.






Benang Logam

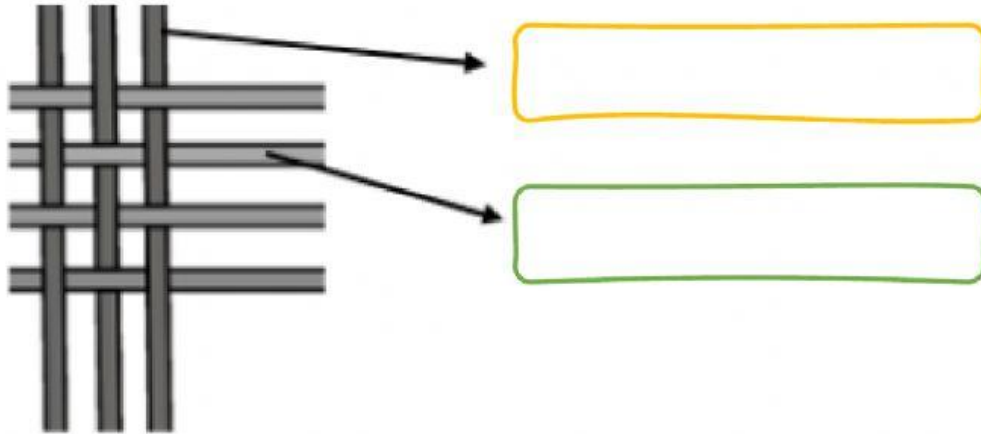
Benang Makrame

Benang Jahit

Pilihlah jawaban yang sesuai dengan konstruksi bahan tekstil berikut pada kotak drop down di bawah gambar tersebut!



Isilah titik-titik berikut sesuai dengan posisi arah benang dengan kata lungsin atau pakan!



Pilihlah jawaban yang sesuai dengan konstruksi bahan tekstil berikut pada kotak drop down di bawah gambar tersebut!



Pilihlah jawaban yang sesuai dengan konstruksi bahan tekstil berikut pada kotak drop down di bawah gambar tersebut!

