
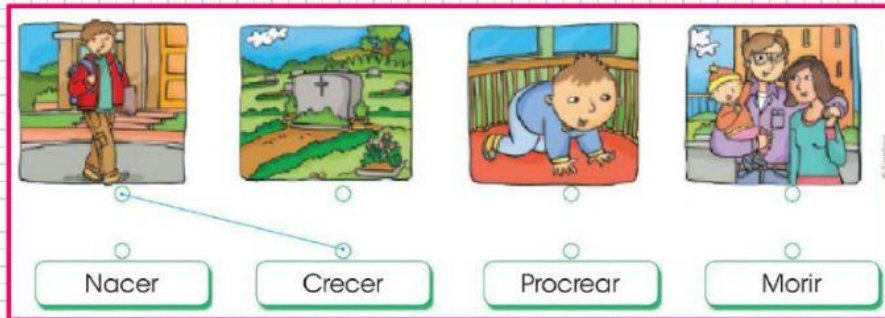



1-Marca las casillas de los seres vivos.



2- Une con una línea el grafico con la etapa del ciclo de vida de las personas.



3-Escribe la primera letra del nombre de cada animal para descubrir el mensaje oculto.




4-Arrastra estas imágenes y ordena secuencialmente las distintas etapas de la vida.

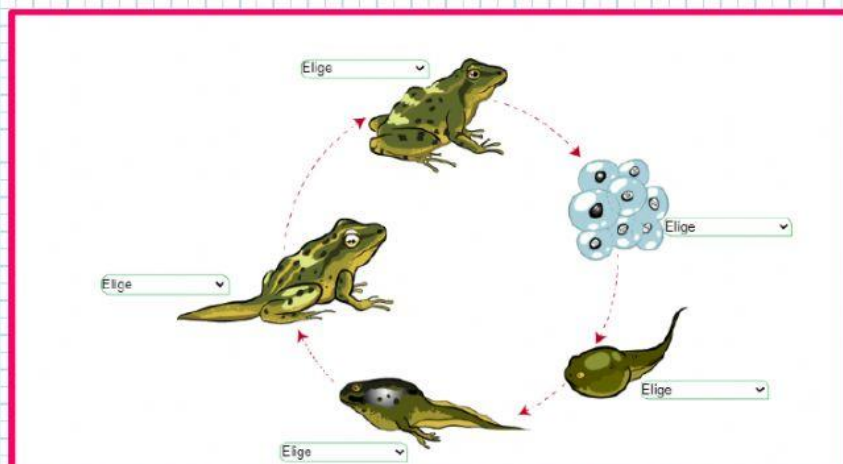




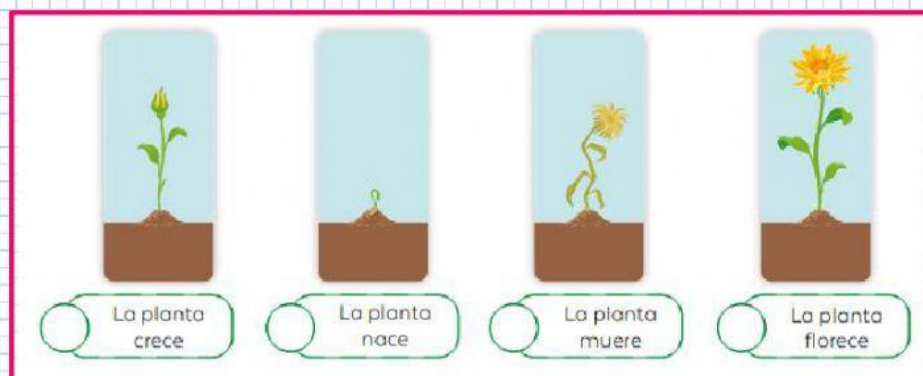
5- Observa la imagen y selecciona el nombre correcto para cada etapa del ciclo de vida de la mariposa.



6- Observa la imagen y selecciona el nombre correcto para cada etapa del ciclo de la rana.



7- organiza las siguientes imágenes, según su orden en el ciclo de la vida de una planta. Para esto, escribe en los cuadros los números del 1 al 4.



C.C.P.V





8- cuando un ser vivo da origen a otro, se convierte en:

a- progenitor.

b- descendiente.

9- los individuos nuevos, se convierte en:

a- progenitor.

b- descendiente.

10- cómo se le conoce al conjunto de rasgos que pasan de padres a hijos?

a- Herencia.

b- Caracteres hereditarios.

c- ciclo de vida.

C.C.P.V



LIVEWORKSHEETS