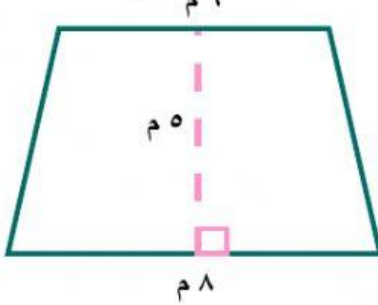


ورقة عمل (مساحة المثلث وشبه المنحرف/محيط الدائرة/مساحة الدائرة)

السؤال الثاني

مساحة شبه المنحرف تساوي:



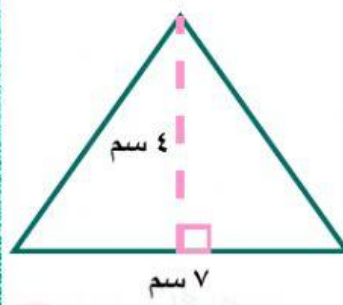
1 21 م²

2 28 م²

3 35 م²

السؤال الأول

مساحة المثلث تساوي:



1 14 سم²

2 28 سم²

3 42 سم²

السؤال الرابع

مساحة الدائرة تساوي:



ملاحظة:

$$ط = 3,14$$

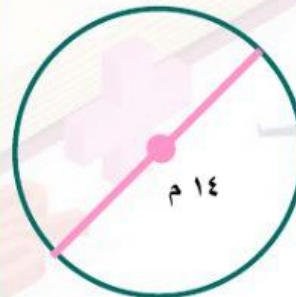
1 50,24 ملم²

2 56,35 ملم²

3 64,87 ملم²

السؤال الثالث

محيط الدائرة يساوي:



ملاحظة:

$$ط = \frac{22}{7}$$

1 22 م

2 44 م

3 66 م



لا تستسلم أبداً.. فالنجاح قريب منك.. فقط محاولة
أخرى وستنجح.. ثق بأنك ستنجح..