

Μαθηματικά

Σχολικό έτος : 2020 - 2021



Δασκάλα : Χάλκου Μαρία

Τάξη : Δ'2

ΠΕΡΙΜΕΤΡΟΣ ΚΑΙ ΕΜΒΑΔΟΝ

1. Συμπλήρωσε τις προτάσεις:



Η πράσινη γραμμή είναι

του σχήματος.

Το εσωτερικό του σχήματος που είναι χρωματισμένο κίτρινο είναι

Όταν μετράμε το μήκος του περιγράμματος ενός σχήματος, βρίσκουμε

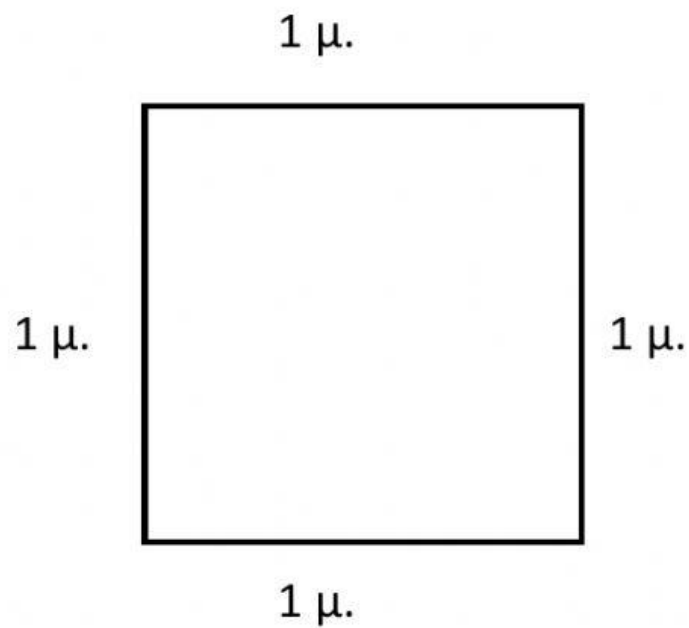
Για να βρούμε την περίμετρο ενός σχήματος,
τα μήκη όλων των πλευρών του.

Αν μετρήσουμε την επιφάνεια ενός σχήματος, βρίσκουμε

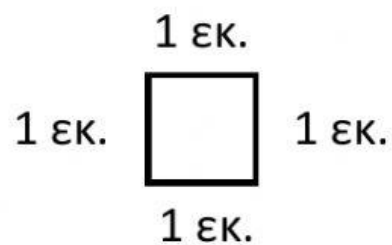
Την περίμετρο τη μετράμε με

Το εμβαδόν το μετράμε με

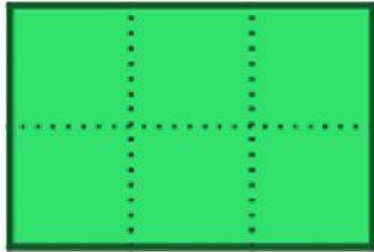
Η παρακάτω εικόνα δείχνει



Η παρακάτω εικόνα δείχνει

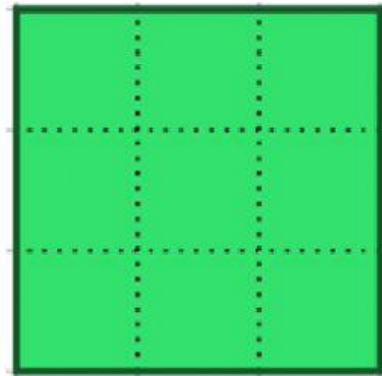


2. Να βρεις την περίμετρο και το εμβαδόν των παρακάτω σχημάτων. (Κάθε τετραγωνάκι έχει μήκος 1 εκ.):



Περίμετρος:

Εμβαδόν:



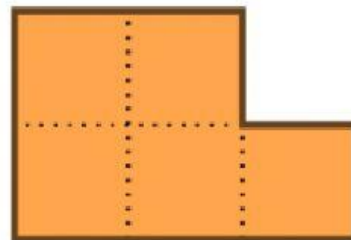
Περίμετρος:

Εμβαδόν:



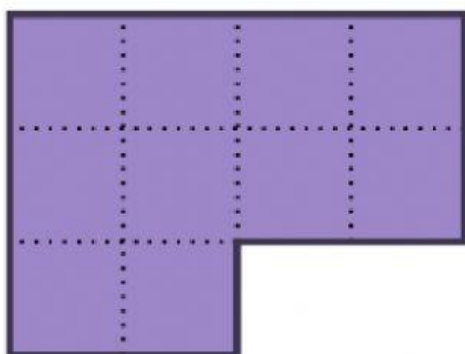
Περίμετρος:

Εμβαδόν:



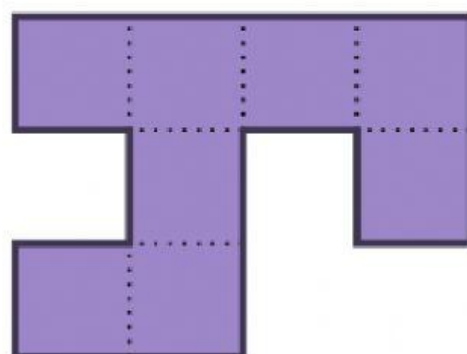
Περίμετρος:

Εμβαδόν:



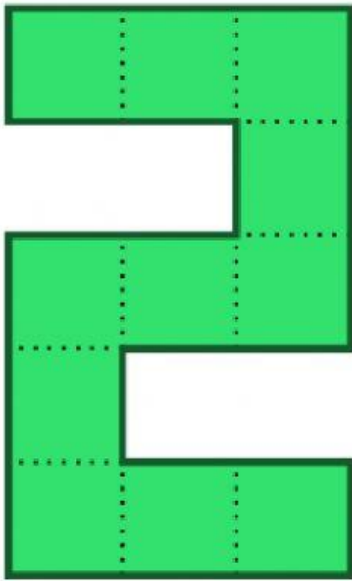
Περίμετρος:

Εμβαδόν:



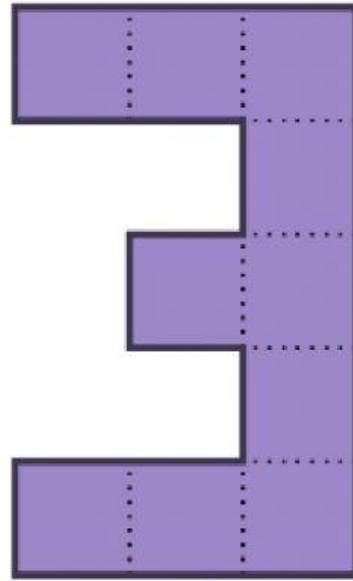
Περίμετρος:

Εμβαδόν:



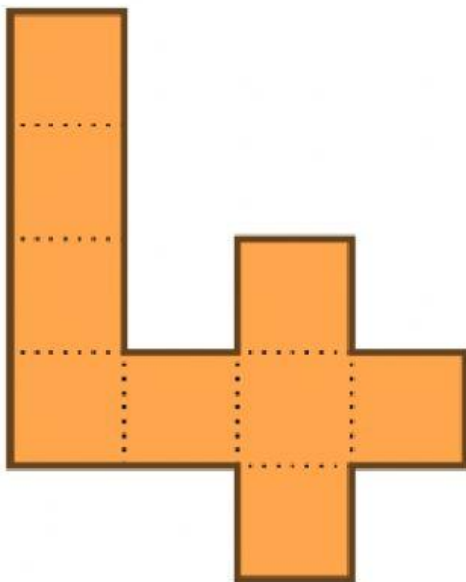
Περίμετρος:

Εμβαδόν:



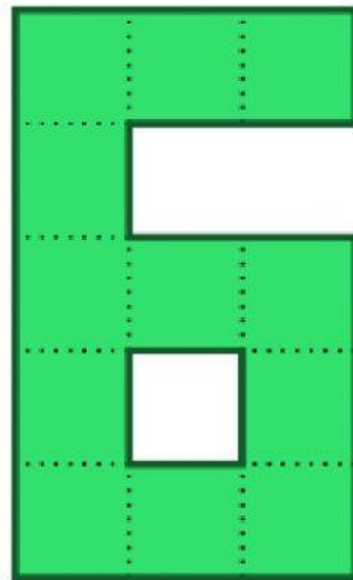
Περίμετρος:

Εμβαδόν:



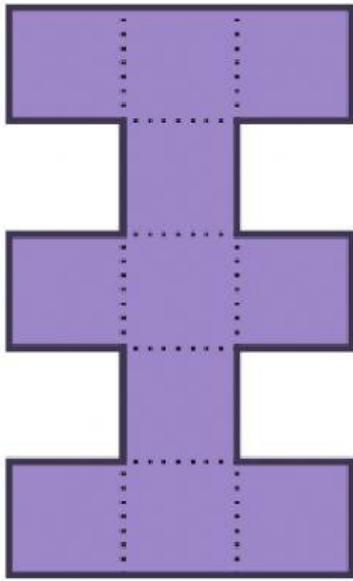
Περίμετρος:

Εμβαδόν:



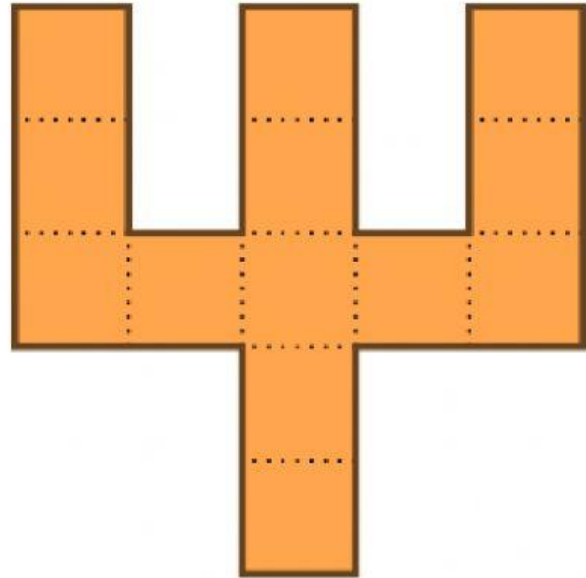
Περίμετρος:

Εμβαδόν:



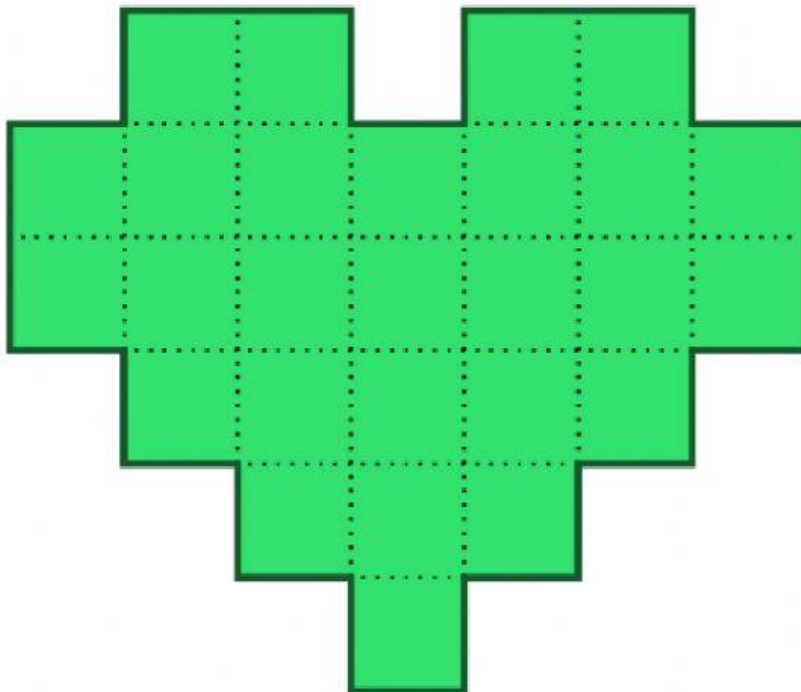
Περίμετρος:

Εμβαδόν:



Περίμετρος:

Εμβαδόν:



Περίμετρος:

Εμβαδόν: