

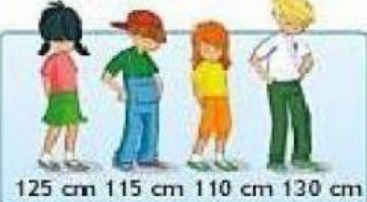


TALLER DE MATEMATICAS IV



Calcular la media, mediana y moda

- 1) **Media:** Escribe en cada conjunto de datos la media correspondiente.




125 cm 115 cm 110 cm 130 cm

↓



24 € 16€ 20 €

↓



100 g 150 g 140 g

↓

2) **Mediana:** Calcula y escribe cada mediana en el conjunto de datos correspondientes.


45 18 43 61 54



17 45 43 62 44 49 43

3) **Moda:** Determina cuál es la moda de cada conjunto y escribe el numero correcto en el cuadro inferior de cada tabla.

Color preferido	Número de personas	Fruta preferida	Número de personas	Deporte preferido	Número de personas
Rojo	13	Manzana	12	Natación	9
Amarillo	32	Durazno	15	Baloncesto	12
Azul	23	Pera	7	Fútbol	20
Verde	21	Piña	10	Tenis	13
Negro	18	Frutilla	17	Voleibol	15

 **LIVEWORKSHEETS**