



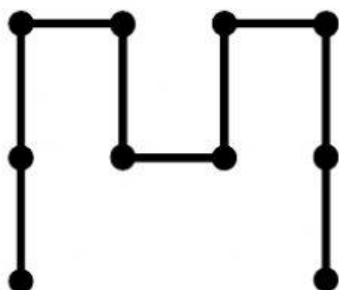
Evaluación Mensual

Grado: 3°	Curso: Raz. Matemático	Profesor: Jaime A. Cedamano T.
-----------	------------------------	--------------------------------

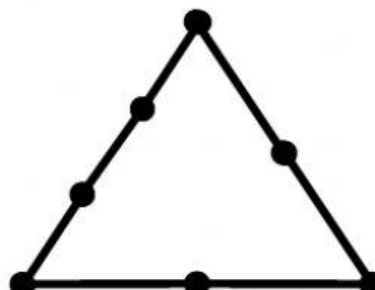
Apellidos y nombre: _____

1.- Halla la cantidad máxima de segmentos en las siguientes figuras y coloca su resultado en su respectivo recuadro (2 Puntos cada uno)

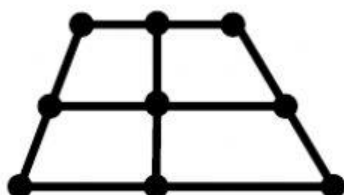
A)



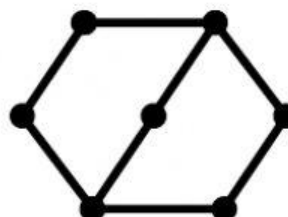
B)



C)

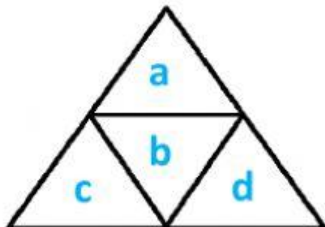


D)



2.- Halla la cantidad máxima de triángulos en las siguientes figuras y coloca su resultado en su respectivo recuadro (3 Puntos cada uno)

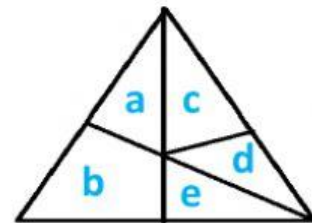
A)



1 letra : _____
 2 letras : _____
 3 letras : _____
 4 letras : _____

TOTAL =

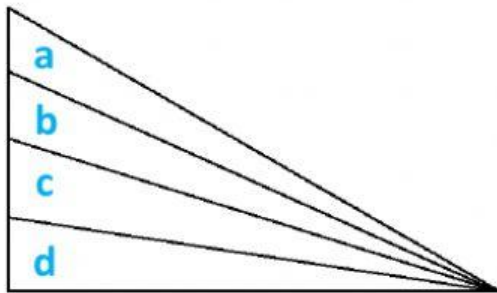
B)



1 letra : _____
 2 letras : _____
 3 letras : _____
 4 letras : _____
 5 letras : _____

TOTAL =

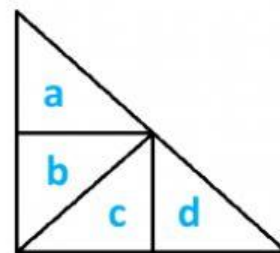
C)



1 letra : _____
 2 letras : _____
 3 letras : _____
 4 letras : _____

TOTAL =

D)



1 letra : _____
 2 letras : _____
 3 letras : _____
 4 letras : _____

TOTAL =