

Nombre: \_\_\_\_\_

Fecha: \_\_\_\_\_

### Objetivos:

- Identifican y reconocen a distintos lugares de las comunidades de las cuales forman parte.
- Identificar distintas costumbres, paisajes y símbolos representativos, de la identidad nacional.
- Desarrollan actitudes de respeto hacia la diversidad presente en su entorno,
- Reconocen y valoran la importancia de vivir en comunidad.
- Reconocer el carácter único de todas las personas y el aporte que cada una de ellas Ubican a Chile en sud América.
- Identifican los colores de los símbolos patrios.
- Reconocen distintas formas de ubicarse en el tiempo.
- Reconocen el paso del tiempo y lo secuencian.
- Conocen y utilizan herramientas para medir el tiempo, tales como calendario
- Identifican características de la Tierra, la Luna y el Sol.

### Instrucciones

- 1.- La guía de actividades tienen instrucciones específicas. Léalas antes de desarrollarla.
- 2.- La guía de actividades debe ser presentada dentro del plazo establecido para su revisión y evaluación.
- 4.- Se solicita a los padres y apoderados apoyar a su hijo(a) en la realización de sus actividades e incentivar su desarrollo durante el periodo que permanezca en casa.

Observa el siguiente Calendario y luego contesta marcando la alternativa correcta:

1. El calendario indica que el año tiene:

- a) 8 meses
- b) 10 meses
- c) 12 meses

2. El año que actualmente estamos es:

- a) 2001
- b) 2015
- c) 2021

3. La ilustración indica como era:

- a) antes
- b) ahora
- c) después




4. ¿A qué momento del día corresponde la imagen que observas?

- a) atardecer
- b) mediodía
- c) amanecer



5. Las imágenes que observas son:






- a) Tradiciones de Chile
- b) Símbolos Patrios
- c) Arte de la Patria

6. ¿A qué corresponde la imagen que observas?

- a) Fiesta de la Vendimia
- b) Fiestas Patrias
- c) Fiesta de la Tirana



7. ¿Cuál es nuestra flor nacional? Marca.

a)	b)	c)
		
Copihue	rosas	claveles

8. ¿Cómo se llaman estos juegos típicos que se realizan en nuestras Fiestas Patrias? Escribe en cada casillero.

9. Observa el mapa y responde:

a) ¿En qué continente se encuentra Chile?

\_\_\_\_\_

b) Marca a Chile en el mapa.



10. Unir...

### Mi barrio, otra comunidad

1. Une con líneas de distinto color cada frase con el personaje correspondiente.

En el negocio nos atiende la

El pelo lo corta la

El pan lo hace el

La basura la recoge el



panadero



recolector de basura



vendedora



peluquera

11.- Escribe los meses que faltan.

Enero		Marzo	
	Julio		Septiembre
	Noviembre		

12.- Escribe los nombres de las estaciones del año de las imágenes.



13.- Escribe el nombre de los siguientes cuerpos celestes:

