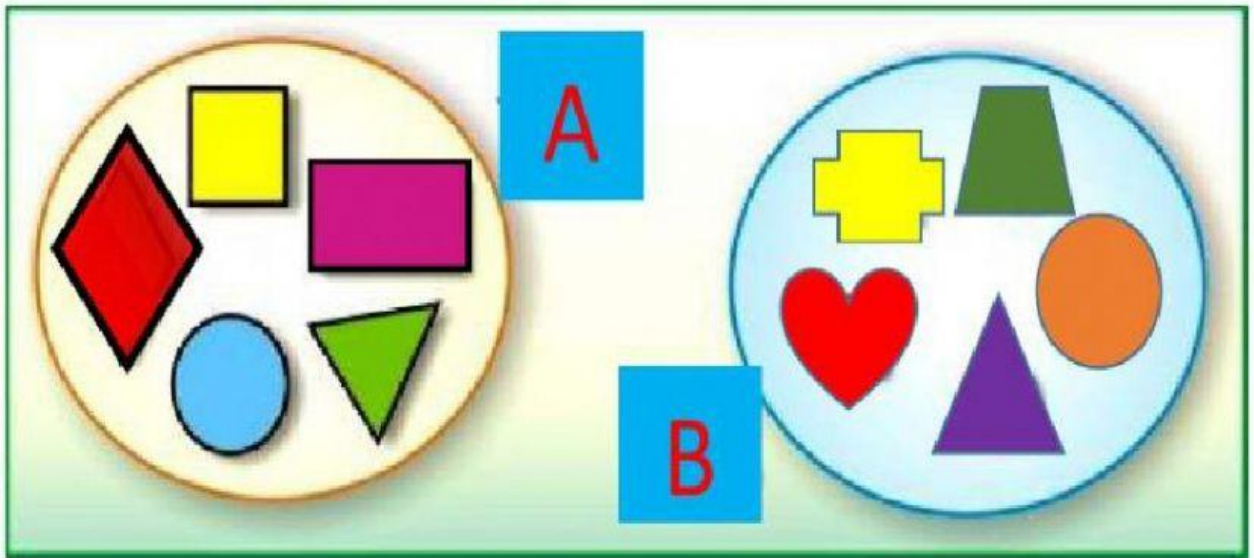



1. Observe al conjunto A y B, el signo de pertenecer  $\in$  y no pertenece  $\notin$  según corresponde




$\in$	$\in$	$\in$	$\notin$	$\notin$	$\notin$
-------	-------	-------	----------	----------	----------



\_\_\_\_\_

B



\_\_\_\_\_

B



\_\_\_\_\_

A



\_\_\_\_\_

B



\_\_\_\_\_

A