

Leemos y completamos tablas

1. Lee el siguiente problema.



¿Qué producto hay más en la tienda?

2. Comprende el problema.


a) ¿Quién va a comprar a la tienda? Marca

Nati

Tina

Tino

b) ¿Qué productos hay en la tienda? Pinta



c) ¿Qué te pide averiguar el problema? Encierra tu respuesta.

d) ¿Qué materiales podemos utilizar para resolver el problema?

3. Aplica tu estrategia y resuelve el problema. <https://www.twinkl.com/>

a) **Elabora la siguiente tabla y complétala.**

Usa palotes
para contar

(|)



Titulo → Productos de la tienda

Producto	Conteo ()	Cantidad
 agua		
 atún		
 yogur		
 leche		



Cada palote (|) es un producto

b) **Representa con las unidades o policubos cada tipo de producto según la tabla de conteo, formando una torre.**



-Luego responde:

a) ¿Cuántos atunes hay en la tienda?

6

7

4

b) ¿Cuántas botellas de agua hay en la tienda?

8

3

2

c) ¿Cuántas botellas de yogur hay en la tienda?

2

3

4


d) ¿Cuántas leches hay en la tienda?

3

8

2

e) ¿Cuál de los productos hay en menor cantidad?



3. Damos respuesta al problema.

¿Qué producto hay más en la tienda?

Seguimos aprendiendo

1. Natalia le pregunta a su familia sobre el plato de comida que más le gusta a su familia. ¿Qué plato de comida es el preferido de la familia de Natalia?



a) Organiza los datos en la tabla de conteo y completa.

Coloca un palote (|) por cada plato de comida.



Plato de comida	Conteo ()	Cantidad
		
		
		
		

-Luego responde:

a) ¿Cuántos prefieren comer lentejas con pescado?

b) ¿Cuántos prefieren comer arroz con pollo?

c) ¿Cuántos prefieren comer arroz con carne frita y ensalada?

d) ¿Cuántos prefieren comer sopa de pollo?


e) ¿Cuál es el plato de comida menos preferido por la familia de Natalia?



Damos respuesta al problema.

¿Qué plato de comida es el preferido de la familia de Natalia?





2. Tulio pregunta a sus amigos sobre su fruta favorita. ¿Qué fruta es la preferida por los amigos de Tulio?



a) Organiza los datos en la tabla de conteo y completa

Coloca un palote (|) por cada fruta.



Fruta	Conteo ()	Cantidad
		
		
		
		

-Luego responde:

a) ¿Cuántos niños prefieren comer plátanos?

6

5

9

b) ¿Qué prefieren comer 6 niños?

sandía

fresa

naranja

c) ¿Cuántos niños prefieren comer sandia?

3

6

1


d) ¿Cuántos niños prefieren comer fresas?

5

6

9

e) ¿Cuál es la fruta menos preferida por los amigos de Tulio?



Damos respuesta al problema.

¿Qué fruta es la preferida por los amigos de Tulio?