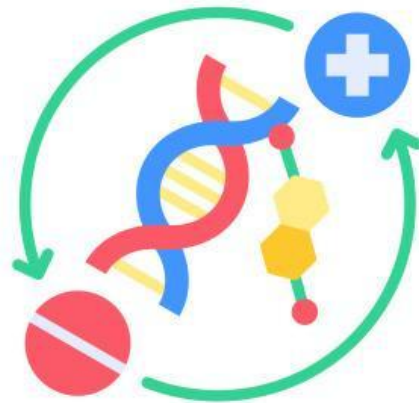


LEMBAR KERJA MURID (LKM) INTERAKTIF IPA KELAS IX

TOPIK SISTEM REPRODUKSI PADA MANUSIA



**OLEH
IRMA YENNI, M.PD**

Nama Murid : _____

Kelompok : _____

Anggota : _____



Sistem Reproduksi pada Manusia

TUJUAN PEMBELAJARAN

1. Peserta didik mampu mengidentifikasi organ reproduksi pada laki-laki dan perempuan serta menjelaskan fungsi masing-masing organ dengan tepat
2. Menganalisis hubungan antara struktur dan fungsi organ reproduksi pada manusia
3. Memahami tahapan siklus menstruasi
4. Memahami mekanisme fertilisasi dan proses kehamilan

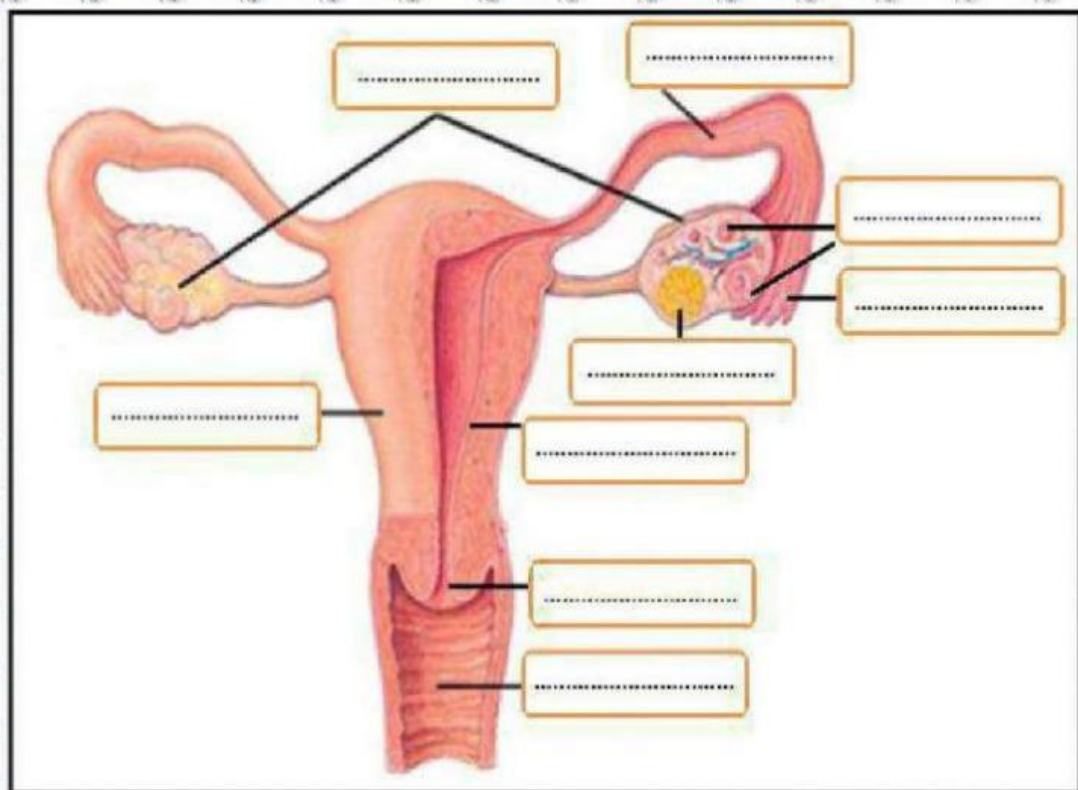
BACALAH PETUNJUK !

1. Bacalah terlebih dahulu setiap petunjuk yang ada dalam LKM ini
2. Diskusikanlah dengan teman kelompokmu dalam menjawab setiap pertanyaan
3. Kerjakanlah dengan bersungguh-sungguh



SELAMAT BEKERJA !

Lakukanlah drag- drup pada organ reproduksi wanita di bawah ini !



Rahim

Korpus Luteum

Ovarium

Endometrium

Folikel

Servik

Vagina

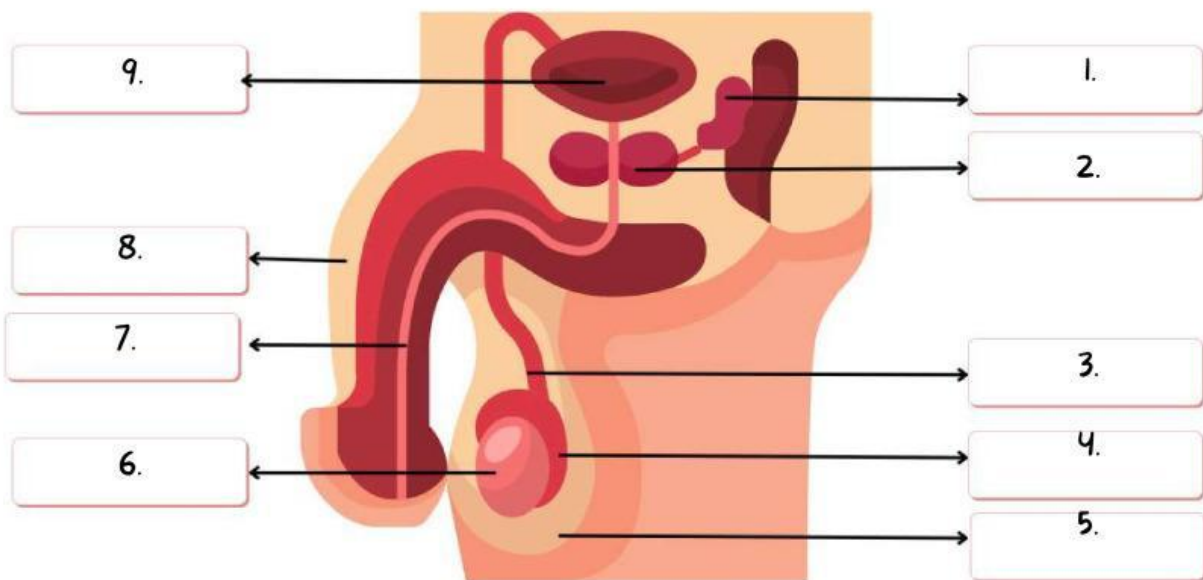
Oviduk

Infundibulum

SELAMAT BEKERJA !

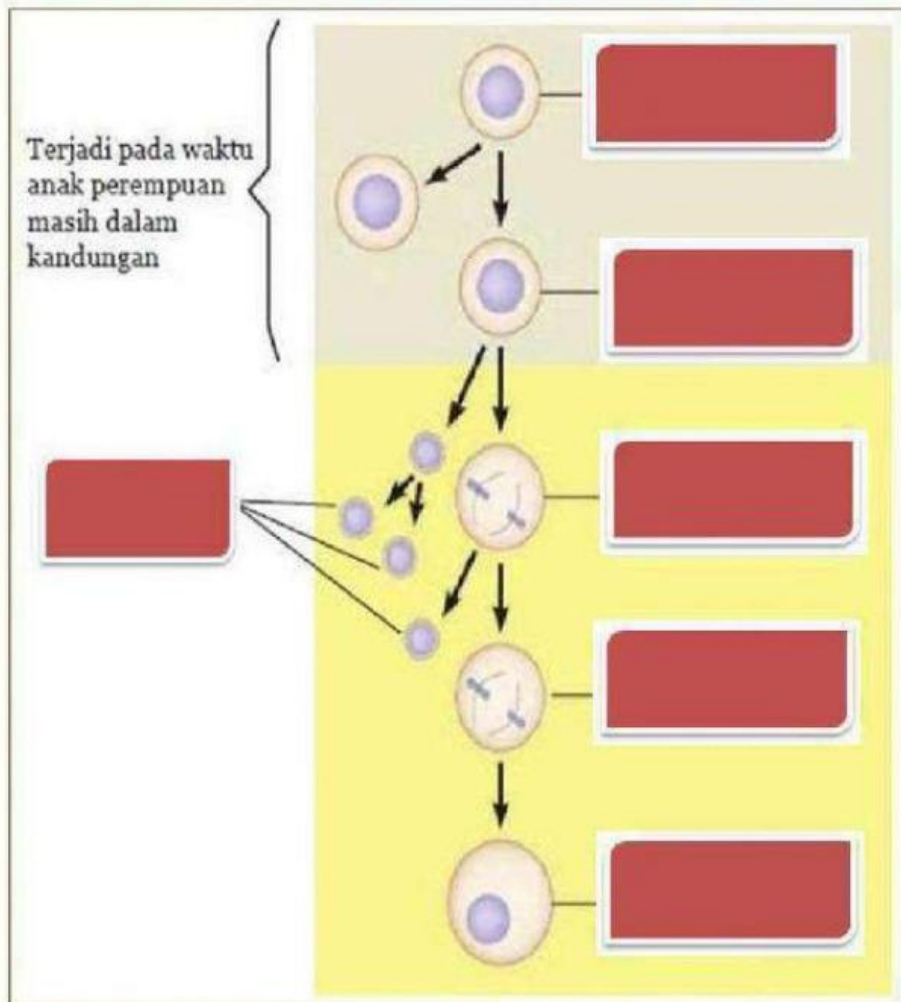
ORGAN REPRODUKSI PADA LAKI-LAKI

lakukanlah drag- drup dan single chouce pada organ reproduksi Laki-laki



No.	Nama Organ	Fungsi
1.		
2.		
3.		
4.		
5.		
6.		
7.		
8.		
9.		

Tariklah (drag) bagian-bagian oogenesis berikut pada tabel yang benar



Oosit Sekunder

Oogonium

Polosit

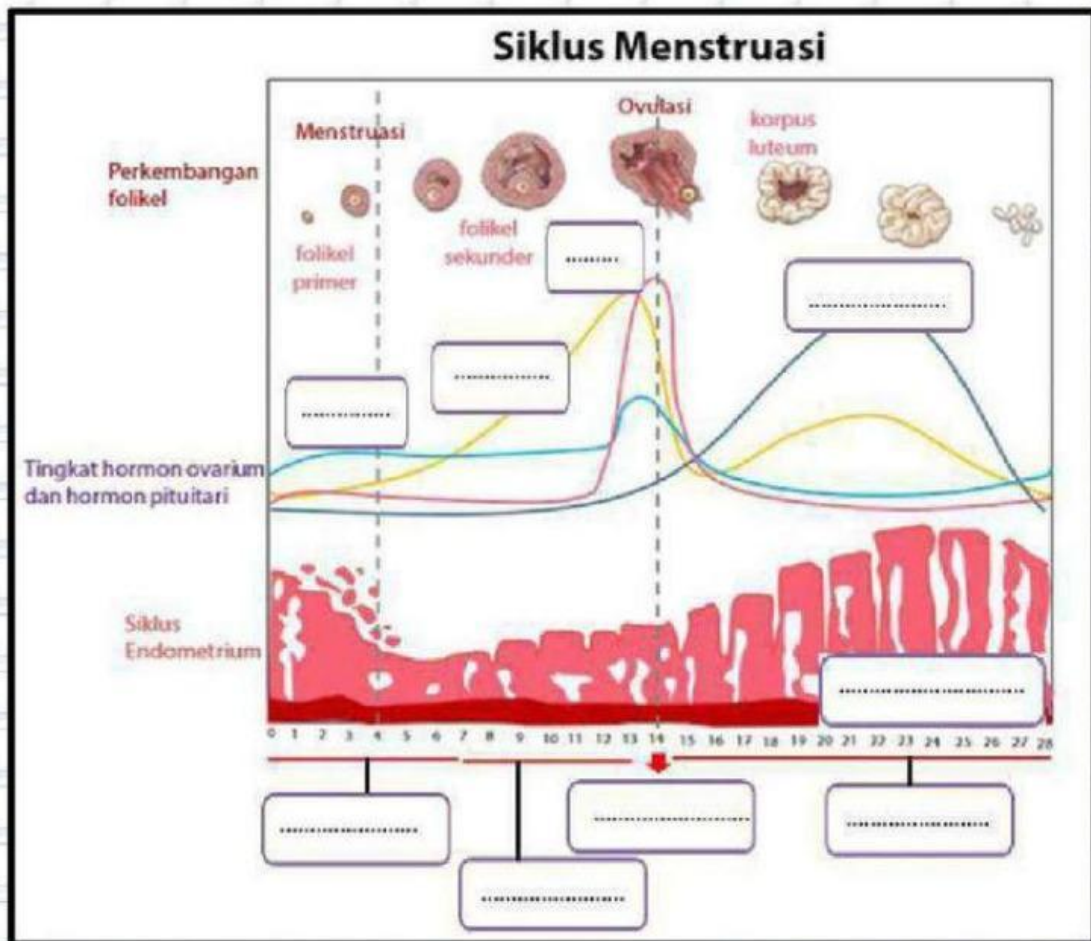
Ootid

Oosit Primer

Ovum

SELAMAT BEKERJA !

Tariklah (drag) siklus mentruasi berikut pada bagian yang benar !
berikut pada tabel yang benar



Ovulasi

Progesteron

Sekretori

Dinding rahim

LH

Proliferasi

FSH

Menstruasi

Estrogen

SELAMAT BEKERJA !



Kesimpulan

Dari kegiatan yang telah kamu lakukan hari ini, apakah kesimpulan yang dapat diperoleh? tuliskan jawabanmu pada kotak di bawah ini!



⋮

SELAMAT BEKERJA !