



Nombre del Alumno (a): _____
Asignatura: Ciencias Sociales y Formación Ciudadana
Cuarto Primaria

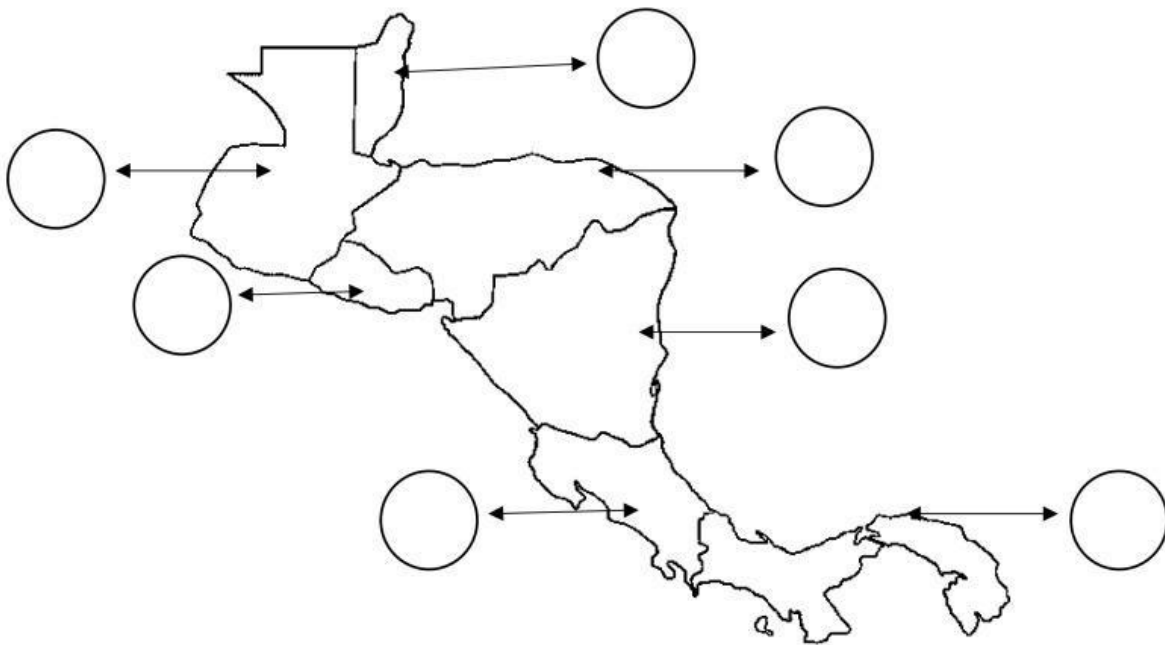
Fecha: _____
Facilitadora: Victoria López
Ciclo Escolar: 2026

Instrucciones Generales:




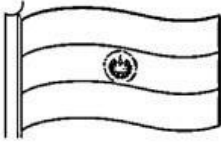
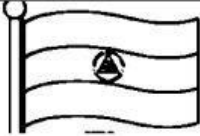


- Trabaje limpio y ordenado.
- Utilice con lapicero negro para minúsculas y lapicero rojo para mayúsculas.
- No se permiten tachones ni uso de corrector.
- Escriba con letra cursiva, clara y legible.

Primera Serie: (14 puntos.) Países de Centroamérica. Localice los países de Centroamérica colocando en el círculo el número que corresponde a cada país.

1. Belice 2. Costa Rica 3. Panamá 4. El Salvador 5. Guatemala 6. Nicaragua 7. Honduras.

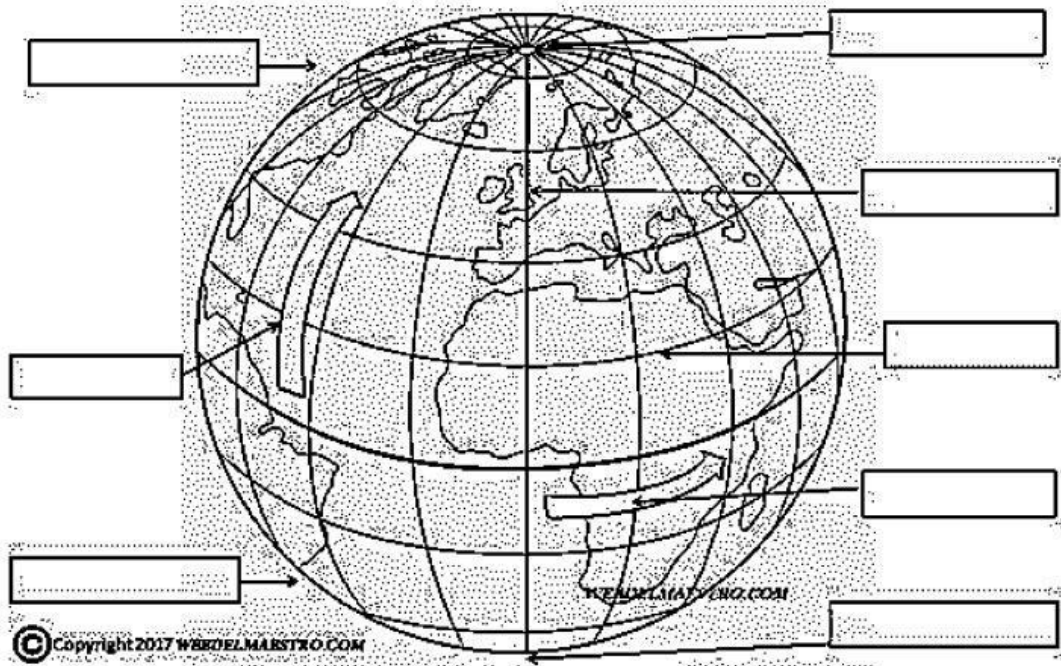


Segunda Serie: (20 puntos.) Símbolos patrios de los países de Centroamérica. Complete la tabla con la información faltante, de los países de Centroamérica.

NOMBRE DEL PAÍS	BANDERA	AVE	ÁRBOL	FLOR
				
Belice			Coba	
Honduras		Guacamaya Roja	Pino ocote	Orquídea digbyana
El Salvador		Torogoz	Bálsamo	
Nicaragua			Madroño	Sancuajoche
Costa Rica		Yigüirro	Guanacaste	Guaria Morada
		Águila Arpía.		Flor del espíritu Santo

Tercera Serie: (16 puntos.) Líneas imaginarias de la tierra. Escriba el nombre de las partes señaladas de la tierra. Guíese por las palabras del recuadro.

Polo Norte	Polo Sur	Ecuador	Meridiano de Greenwich
Hemisferio Norte	Hemisferio Sur	Longitud	Latitud.



Cuarta Serie: (20 puntos.) Capitales de Centroamérica. Trace con una línea los países de la izquierda con las capitales que le corresponden de la derecha.

- | | |
|---------------|---------------------|
| 1. Guatemala | Managua |
| 2. Belice | Tegucigalpa |
| 3. Costa Rica | San José |
| 4. Honduras | Belmopán |
| 5. Nicaragua | Ciudad de Guatemala |

Quinta Serie: (Valor 20 puntos.) Desastres naturales. Según la imagen, seleccione la palabra que lo identifica.



-
-
-



-
-
-



-
-
-



-
-
-



-
-
-

Sexta Serie: (10 puntos.) Formas de representar la tierra. Marque donde corresponde según sea falso o verdadero.

1. Una de las formas de representar la tierra es el globo terráqueo.
2. Los mapas físicos son los que hablan sobre un tema.
3. La orientación es la que indica los puntos cardinales en el mapa.
4. La escala son los símbolos del mapa.
5. El mapa que representa la tierra se llama planisferio.

F	V
<input type="checkbox"/>	<input type="checkbox"/>
<input type="checkbox"/>	<input type="checkbox"/>
<input type="checkbox"/>	<input type="checkbox"/>
<input type="checkbox"/>	<input type="checkbox"/>
<input type="checkbox"/>	<input type="checkbox"/>