

LKPD

MATEMATIKA

Sekolah Dasar



Nama:

Kelas:

Nama:

Kelas:

PILIHAN GANDA

Kenali Bangun Datar!

Pilih Jawaban Yang benar!



Bangun datar yang memiliki sisi sama panjang adalah....

- A Persegi
- B Segitiga
- C Persegi panjang
- D Jajar Genjang




Persigi panjang memiliki sisi sama panjang

- A 1 pasang
- B 3 pasang
- C 2 pasang
- D 4 pasang



Segitiga siku-siku memiliki satu sudut sama besar....

- A 45°
- B 90°
- C 60°
- D 10°



Bangun datar yang memiliki sisi lengkung adalah....

- A Lingkaran
- B Jajar Genjang
- C Persegi
- D Belah Ketupat

Nama:


Kelas:



Menghitung Buah!



Tuliskan jumlah masing masing buah di bawah ini.




=

.....




=

.....



=

.....




=

.....



=

.....



=

.....


Nama:

Kelas:

MENCOCOKKAN BANGUN DATAR



Hubungkanlah garis bangun datar sesuai namanya dibawah ini !



LINGKARAN



JAJAR
GENJANG



SEGI TIGA



PERSEGI

Nama: _____

Kelas: _____

SOAL MENGELOMPOKKAN

Potong dan kelompokkan bilangan yang sesuai dengan kelompoknya

Ganjil

Genap

1	2	3	4
5	6	7	8
9	10	11	12