



## Formación de imágenes en lentes

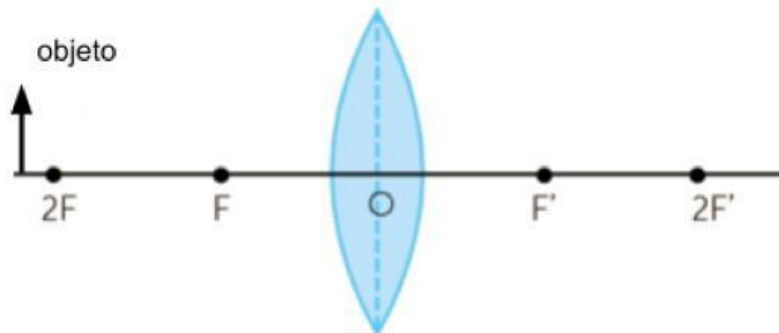
Nombre:

Curso:

### Instrucciones:

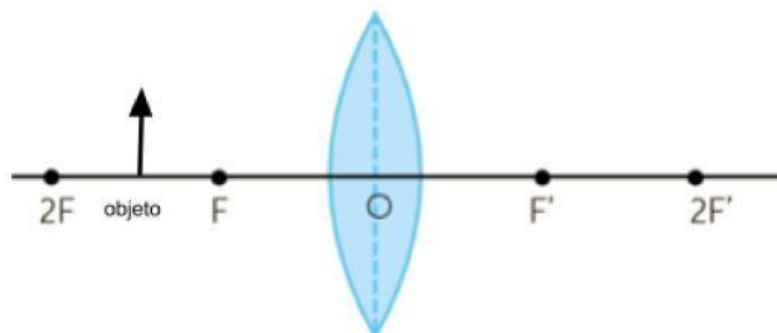
- 1) Traza los rayos notables para cada modelo para formar una imagen.
- 2) Marca con una **X** las características de la imagen formada en cada modelo.

#### Caso 1 (Objeto más allá de 2F)



Invertida	Derecha	Menor Tamaño	Igual Tamaño	Mayor Tamaño	Real	Virtual

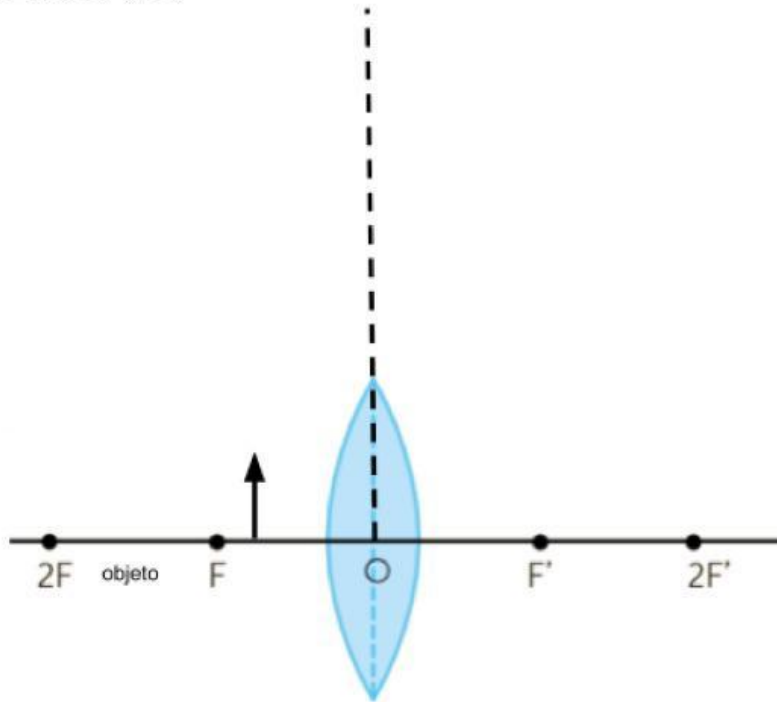
#### Caso 2 (Objeto entre 2F y F)



Invertida	Derecha	Menor Tamaño	Igual Tamaño	Mayor Tamaño	Real	Virtual

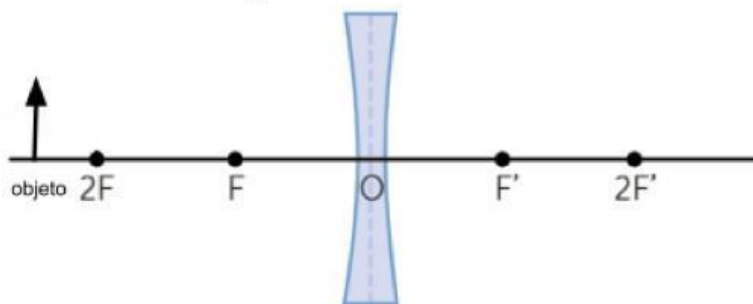


**Caso 3 (Objeto entre F y O)**



Invertida	Derecha	Menor Tamaño	Igual Tamaño	Mayor Tamaño	Real	Virtual

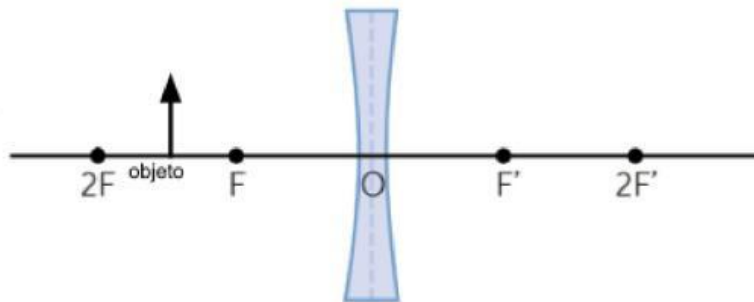
**Caso 4 (Objeto más allá de los 2F)**





Invertida	Derecha	Menor Tamaño	Igual Tamaño	Mayor Tamaño	Real	Virtual

**Caso 5 (objeto entre 2F y F)**



Invertida	Derecha	Menor Tamaño	Igual Tamaño	Mayor Tamaño	Real	Virtual