



Nama : A. SAIFUL IHSAN, S.Pd.

INSTANSI : UPT SD NEGERI 12 GRESIK

Tema : Permainan Bola Besar

Mata Pelajaran : PJOK

Pokok Bahasan : Teknik Dasar Sepak

Nama :

Kelas :

No. Absen :

A. Simak Video Berikut



B. Dengarkan dan Ekspresikan dengan kalimat



C. Open Answer
Cukup buat kotak selesai


D. Pilih jawaban yang sesuai dengan gambar berikut !

Pada gambar berikut termasuk salah satu teknik dasar sepak bola yaitu ...




E. Pilih kotak yang kalian anggap benar.

Pada gambar berikut termasuk salah satu teknik dasar menyundul bola tanpa melompat yaitu ...



F. Centang kotak yang kalian anggap benar.


Pada gambar berikut termasuk salah satu teknik dasar menghentikan bola dengan paha adalah ...



G. Tariklah garis dari huruf A,B,C kearah kotak pasangannya

Menggiring bola menggunakan kaki bagian dalam

A



Menggiring bola menggunakan punggung kaki

B



Menggiring bola menggunakan punggung kaki

C



H. Sentuh gambar dan geser pada kota jawaban yang tersedia



Menyundul

Menghentikan