

Lembar Kerja Peserta Didik

LKPD

Ilmu Pengetahuan Alam

Kelas III



Nama: _____

Kelas: _____

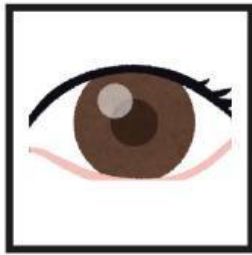


MENGENAL PANCAINDRA



Instruksi:

Hubungkanlah pancaindra dengan fungsi yang sesuai!



Mencium
bunga

Merasakan
Nafas

Melihat
Pelangi

Mendengar
Musik

Mencicipi
Rasa Es
Krim




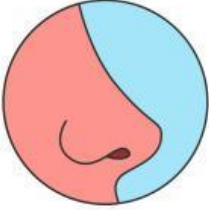



Mengenal fungsi Pancaindra



Instruksi:

Tempatkan bagian yang sesuai dengan cara memindahkan kolom yang ada

Gambar	Nama	Kegunaan
	Mata	
	Mendengar	
		Mencium bau
	Lidah	
		Kulit

Memahami cara Merawat Tubuh agar tetap Sehat.



Instruksi:

CENTANGLAH PERNYATAAN YANG MENURUTMU BENAR!

Mata berfungsi sebagai alat indra untuk melihat.



Membersihkan telinga dengan benda tajam merupakan cara yang baik untuk menjaga kesehatan telinga.



Telinga digunakan untuk mengecap rasa makanan.



Menjaga kebersihan tubuh membantu menjaga kesehatan kulit.



Jelaskan satu fungsi alat indra tersebut dan tuliskan minimal tiga cara yang dapat dilakukan untuk menjaga kesehatannya. Berikan alasan mengapa menjaga kesehatan alat indra tersebut sangat penting dalam kehidupan sehari-hari.