



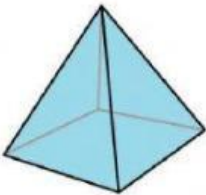
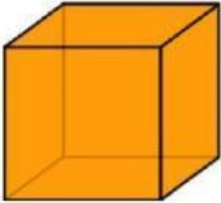
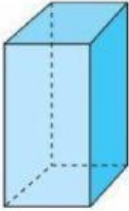

Nombre: _____

Matemáticas

Figuras geométricas

Instrucciones: traza una línea entre la figura tridimensional y su nombre.



	<input checked="" type="checkbox"/>	<input checked="" type="checkbox"/> Prisma rectangular
	<input checked="" type="checkbox"/>	<input checked="" type="checkbox"/> cubo
	<input checked="" type="checkbox"/>	<input checked="" type="checkbox"/> cilindro
	<input checked="" type="checkbox"/>	<input checked="" type="checkbox"/> pirámide
	<input checked="" type="checkbox"/>	<input checked="" type="checkbox"/> esfera
	<input checked="" type="checkbox"/>	<input checked="" type="checkbox"/> cono