



Họ và tên:






Lớp: 1.....

Thứ sáu ngày tháng.... năm 20....



PHIẾU BÀI TẬP CUỐI TUẦN 1

Môn: Toán

Bài 1: Số?



Bài 2: Số?



Bài 3: Đếm số lượng trong hình tròn rồi nối với số thích hợp.