

FICHA DE TRABAJO: ELEMENTOS NOTABLES DE LA PARÁBOLA

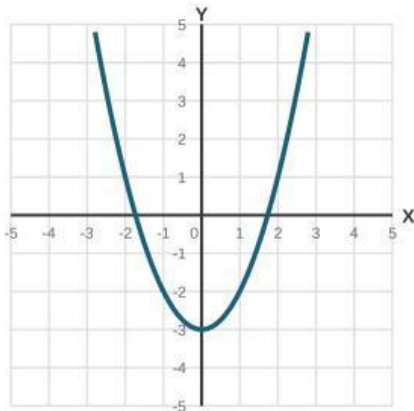
Análisis del Vértice, Eje de Simetría y el Parámetro c

Estudiante: _____

Grupo: 9.º Año

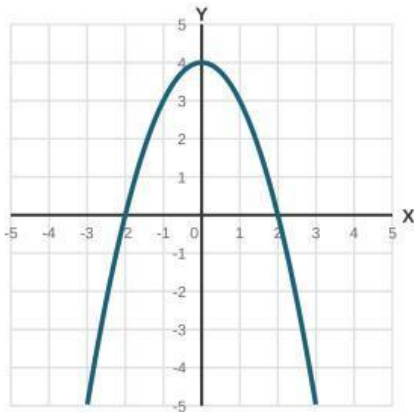
Fecha: ____/____/2026

Instrucciones: Observa con atención la representación gráfica de cada función cuadrática en su respectivo sistema de ejes coordenados. Identifica de forma visual sus puntos clave y completa los recuadros en blanco con los valores correspondientes.



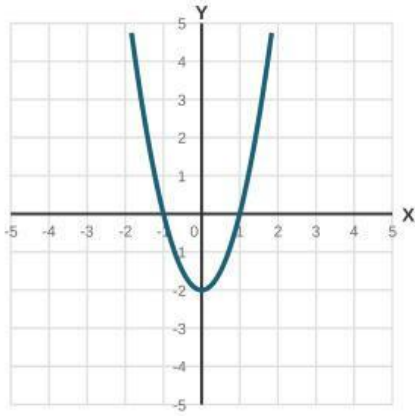
GRÁFICA N° 1

- Coordenadas del **Vértice**: (,)
- Ecuación del **Eje de Simetría**: $x =$
- Valor de la ordenada al origen (**c**): $c =$



GRÁFICA N° 2

- Coordenadas del **Vértice**: (,)
- Ecuación del **Eje de Simetría**: $x =$
- Valor de la ordenada al origen (**c**): $c =$



GRÁFICA N° 3

• Coordenadas del **Vértice**: (,)

• Ecuación del **Eje de Simetría**: $x =$

• Valor de la ordenada al origen (**c**): $c =$