

# ورقة عمل تفاعلية عن الأشكال

الاسم: \_\_\_\_\_

الصف: \_\_\_\_\_

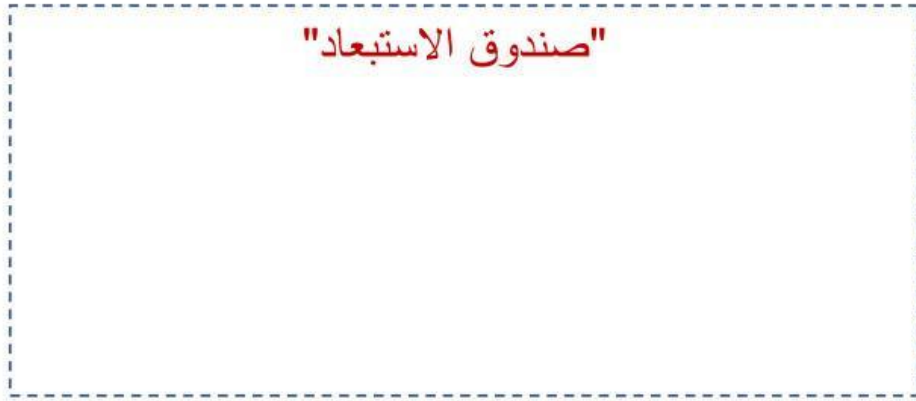
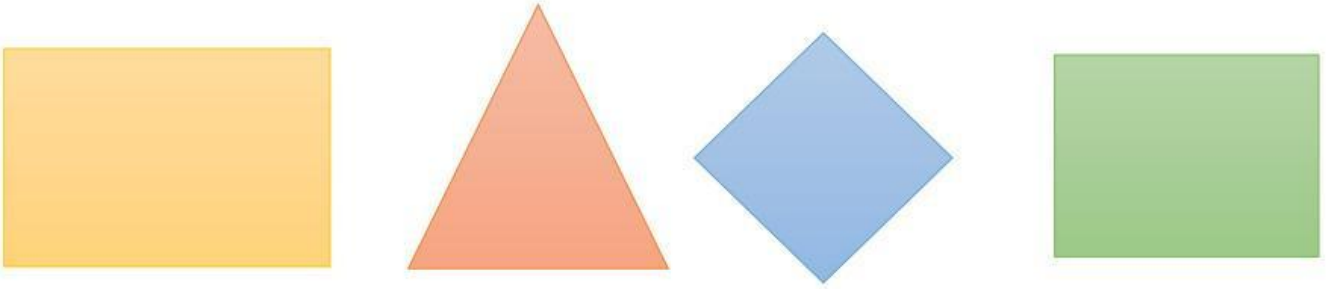
## التهيئة

شاهد هذا الفيديو قبل البدء بالحل



## النشاط الأول: المحقق الذكي

اسحب الشكل الذي لا ينتمي إلى المجموعة وضعه داخل صندوق الاستبعاد



لماذا اخترت هذا الشكل بالتحديد؟

---

---

---

## النشاط الثاني: لغز الأشكال الهندسية

صل كل لغز بالشكل الهندسي المناسب له بناءً على خصائصه



1. أنا شكل لي 4 أضلاع متساوية تماماً  
في الطول ولدي 4 زوايا قائمة



2. أنا شكل مستدير وسلس ليس لدي أي  
أضلاع مستقيمة ولا زوايا



3. أنا شكل رباعي كل ضلعين متقابلين  
في متساويان ومتوازيان

## النشاط الثالث: ماذا لو؟

تخيل أن لدينا مربعاً مصنوعاً من القش، ثم قمنا بالضغط على زواياه برفق لتصبح  
مائلة وغير قائمة مع الحفاظ على أطوال أضلاعه الأربعة متساوية كما هي، هل سيبقى  
مربعاً؟ ولماذا؟

نعم، سيبقى مربعاً

لا، لن يبقى مربعاً

برر إجابتك:

---

---

## النشاط الرابع: شبكة الحروف

ص	س	ع	ر	م	ع	ي	ط	ن	م
ظ	ز	ش	ئ	ر	ص	د	ج	و	ي
ث	ظ	ط	فا	ب	ر	ث	ل	ث	م
ر	ش	ج	خ	ع	غ	س	ك	ظ	س
ة	ر	ئ	ا	د	ل	ق	فا	ن	ت
ذ	ش	ي	ث	ه	د	خ	ؤ	ت	ط
ث	د	ج	س	س	ك	د	ب	ر	ي
ق	ظ	ن	ي	ع	م	ش	ع	و	ل
فا	ه	أ	م	فا	ش	ؤ	ق	ج	و
ع	ث	ي	ن	ص	ط	ئ	غ	ش	غ


- ابحث في شبكة الحروف عن اسم شكل هندسي يشبه عجلة السيارة




- ابحث عن اسم شكل هندسي يشبه الطاولة




• ابحث عن اسم شكل هندسي يشبه النافذة



• ابحث عن اسم شكل هندسي يشبه الطائرة الورقية



• ابحث عن اسم شكل هندسي يشبه شريحة البيتزا



## النشاط الخامس: التحدث



لماذا تصنع عجلات السيارات والدراجات على شكل دائرة دائماً، وليس على شكل مربع أو مستطيل؟

اضغط على الميكروفون و اشرح السبب لزملائك

## النشاط السادس: الربط مع الإنكليزي

اختر الحرف الأول من اسم الشكل الهندسي باللغة الإنكليزية

