



1. Выполни задание




2. Составь примеры на умножение к карточке и запиши его.




$$\square \cdot \square = \square$$



$$\square \cdot \square = \square$$



$$\square \cdot \square = \square$$



$$\square \cdot \square = \square$$

3. Реши примеры. Запиши ответ.

$$5 \cdot 2 =$$

$$2 \cdot 3 =$$

$$7 \cdot 2 =$$

$$2 \cdot 4 =$$

$$8 \cdot 2 =$$

$$6 \cdot 2 =$$

4. Соедини примеры с ответами.

$2 + 2 + 2 =$

0

$8 - 2 \cdot 2 =$

10

$2 \cdot 0 =$

6

$5 + 5 =$

12

$3 + 3 + 3 + 3 =$

18

$6 + 6 + 6 =$

4

4. Прочитай задачи и запиши решение и ответ.

**У Маши 3 пары одинаковых носочков. Сколько всего носочков у Маши?**

**В одной коробке лежит 2 конфеты. Сколько конфет в 5 таких коробках?**