



## பயிற்சி செய்வோமா

மாதிரிகளில் பயன்படுத்தப்பட்டுள்ள வடிவங்களை வண்ணமிடுக.

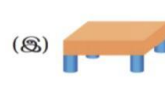
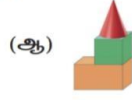
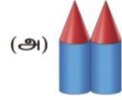
மாதிரிகள்	வடிவங்கள்



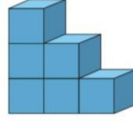
## ஆராய்ந்து அறிவோமா

சரியான விடையைத் தேர்ந்தெடுக்க.

1. கன செவ்வகம் மற்றும் உருளைகளைக் கொண்டு உருவாக்கப்பட்டுள்ள மாதிரி எது?



2. பின்வரும் மாதிரியை உருவாக்க எந்தத் தொகுப்பைப் பயன்படுத்த வேண்டும்?



(அ) 12 கனசதுரங்கள்

(ஆ) 4 கனசதுரங்கள்

(இ) 6 கனசதுரங்கள்

(ஈ) 2 கனசெவ்வகங்கள்

3. ஒரு ராக்கெட் மாதிரியை உருவாக்க எந்தத் தொகுப்பைப் பயன்படுத்த வேண்டும்?



## Let us Practise

Colour the shapes used in the model.


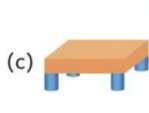
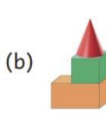
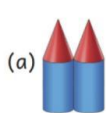
Model	Shapes



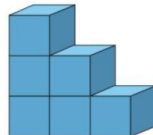
## Let us Explore

Choose the correct answer.

1. Which model has been created using cuboid and cylinders?



2. Which set of shapes has to be used to create the model shown below?



(a) 12 cubes

(b) 4 cubes

(c) 6 cubes

(d) 2 cuboids

3. Which set of shapes should be used to create a rocket model?

