

PHIẾU HỌC TẬP - KHTN 7

Chủ đề: Sinh sản ở sinh vật

Họ và tên: _____ Lớp: _____

A. Khởi động

1. Quan sát hình và điền tên hình thức sinh sản:



- Hình thức sinh sản:

B. Luyện tập

2. Sinh sản vô tính chỉ cần.....cơ thể mẹ.

3. Chọn đáp án đúng:

Sinh sản hữu tính có sự:

- A. Chỉ có ở thực vật
- B. Có sự kết hợp giao tử
- C. Không tạo hợp tử
- D. Không cần giao tử

5. Nói:

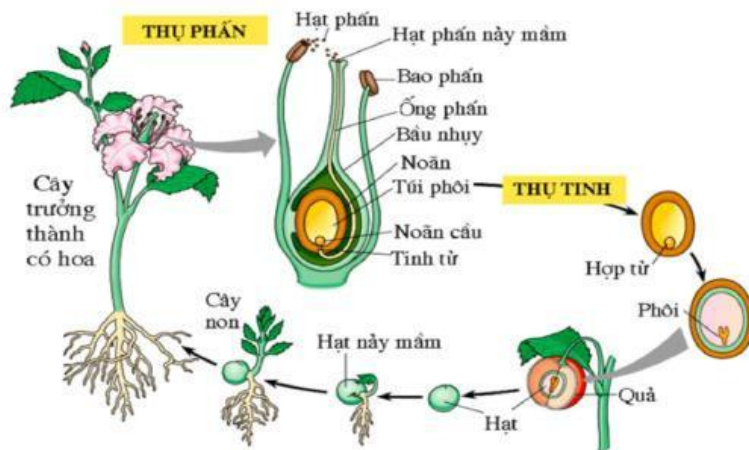
Sinh sản vô tính	Không có sự kết hợp giao tử
Sinh sản hữu tính	Có sự kết hợp giao tử

6. Hãy mô tả sự thụ phấn và sự thụ tinh trong bằng cách sắp xếp thứ tự đúng bằng các số từ 1 đến 5

III. SINH SẢN HỮU TÍNH Ở SINH VẬT

2. Sinh sản hữu tính ở thực vật

b) Quá trình sinh sản hữu tính ở thực vật

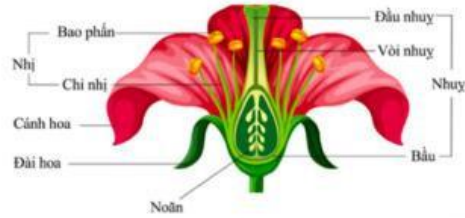
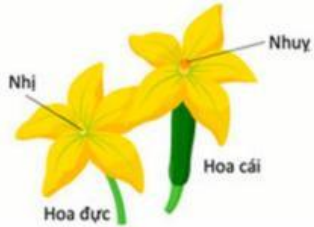


Các sự kiện trong quá trình thụ phấn và thụ tinh	Thứ tự đúng
Ống phấn tiếp xúc với noãn.	
Giao tử đực kết hợp với giao tử cái tạo thành hợp tử.	
Hạt phấn rơi vào đầu nhụy và nảy mầm.	
Ống phấn mọc dài ra trong vòi nhụy và đi vào bầu nhụy.	
Nhụy và nhị cùng chín.	

III. SINH SẢN HỮU TÍNH Ở SINH VẬT

2. Sinh sản hữu tính ở thực vật

a) Cơ quan sinh sản của thực vật



Hoa nào là hoa lưỡng tính, hoa nào là hoa đơn tính?

Hoa lưỡng tính

Hoa đơn tính