

LEMBAR KERJA PESERTA DIDIK

# LKPD

Ilmu Pengetahuan Alam & Sosial

Bab 4 Berkenalan dengan Energi

Topik A

Nama: \_\_\_\_\_

Kelas: \_\_\_\_\_



Disusun Oleh: Anggita Nuraini



# BENTUK ENERGI



Pasangkanlah benda-benda dengan energi yang dihasilkan!

Gitar



Kompor



Makanan



Energi Panas

Energi Cahaya

Energi Gerak


Energi Kimia

Energi Bunyi

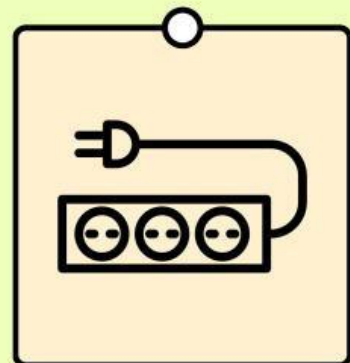
Energi Listrik



Senter



Kipas Angin

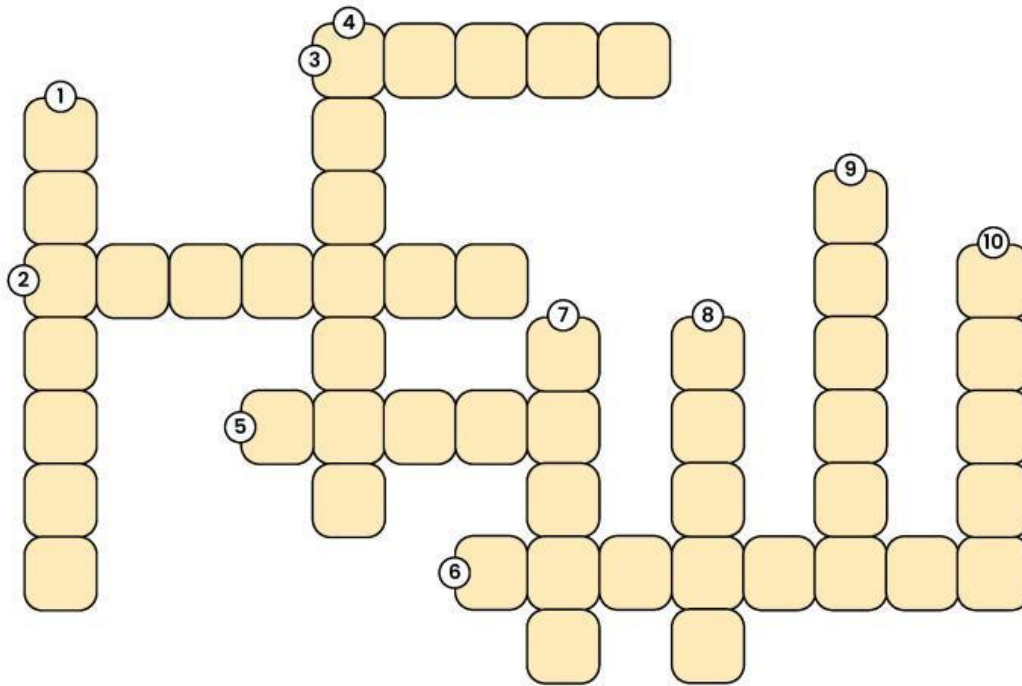


Stop Kontak

# Bentuk Energi



## Teka-teki silang



Gunakan petunjuk dibawah untuk memecahkan teka-teki silang!

### Mendatar

2. Nama lain dari energi gerak.
3. Benda yang dapat menghasilkan energi cahaya.
5. Energi yang ditimbulkan karena adanya reaksi kimia.
6. Sumber energi cahaya terbesar.

### Menurun

1. Contoh energi kimia.
4. Energi yang dapat menyalakan peralatan elektronik.
7. Energi untuk menjemur pakaian.
8. Energi yang dihasilkan oleh benda yang bergerak.
9. Membuat tempat gelap menjadi terang.
10. Dihasilkan oleh benda bergetar.