

# LKPD

## BANGUN RUANG

Perhatikan vidio berikut ini :



Perhatikan materi presentasi berikut ini :



Materi



Materi

# LKPD

## BANGUN RUANG

1.

### TEKSFIELD

Bangun ruang yang tidak memiliki rusuk dan titik sudut adalah bangun ...

2.

### SINGLE CHOICE

Berikut ini yang bukan merupakan bangun ruang adalah...

3.

### CHECKBOXES

Pernyataan yang benar adalah...

Kubus memiliki 6 sisi     Bola memiliki rusuk     Tabung memiliki 2 sisi datar

4.

### SELECT

Nama bangun ruang di bawah ini adalah...



Kubus

Tabung

Balok

Kerucut

# LKPD

## BANGUN RUANG

5.

### WORD SEARCH


Temukan 3 kata pada kotak di bawah ini.

L	S	I	B	K
I	B	O	U	N
M	L	B	I	A
A	U	C	U	K
S	U	X	M	S

6.

### SPEAK

Sebutkan nama bangun ruang berikut dengan tepat !



# LKPD

## BANGUN RUANG

7.

### LISTENING

Dengarkan suara berikut dan tuliskan jawabannya dengan tepat !



8.

### DRAG & DROP

Tentukan rumus yang sesuai dengan gambar



$$V = s \times s \times s$$

$$V = p \times l \times t$$

$$V = \pi \times r \times r \times t$$

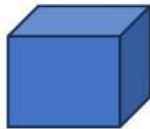

# LKPD

## BANGUN RUANG

9.

### JOIN

Buatlah garis ke jawaban yang benar



Balok

Tabung

Kubus