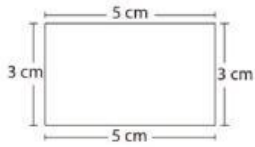


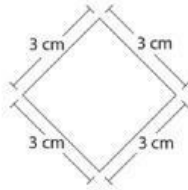
1

/2 puntos

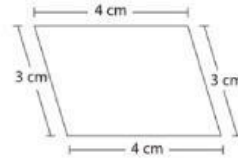
Observa las medidas de cada figura. Luego, halla su perímetro.



Perímetro: cm



Perímetro: cm



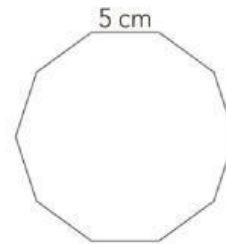
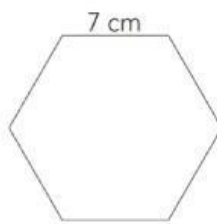
Perímetro: cm

¿QUÉ ESTAMOS APRENDIENDO? - DBA 4, 5. Ha

2

/2 puntos

Observa cada figura. Luego relaciona cada una de las figuras con el perímetro correspondiente.



50 cm

42 cm

40 cm

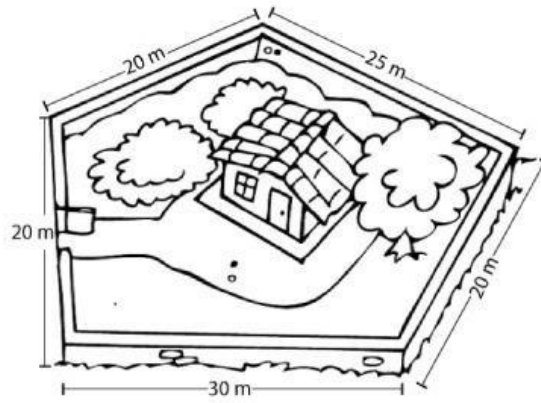
¿QUÉ ESTAMOS APRENDIENDO? - DBA 4, 5. Ha

3

/2 puntos

Lee la siguiente situación. Luego, selecciona la respuesta correcta.

Daniel y Ángela quieren cercar su finca. En una hoja tomaron nota de la medida de todos los lados de la finca.



- ¿Cuántos metros de cerca necesitan Daniel y Ángela?

¿QUÉ ESTAMOS APRENDIENDO? - DBA 4, 5. Ha