

# LKPD

## ILMU PENGETAHUAN ALAM DAN SOSIAL

Nama : .....

Kelas : .....




Nama : \_\_\_\_\_

Kelas : \_\_\_\_\_

# Perubahan Wujud Zat

Tentukanlah perubahan zat yang terjadi dengan mengisi tabel kosong di bawah ini!

Benda	Perubahan Wujud	Dari Zat Menjadi Zat
	Mencair	Padat menjadi cair
		
		
		
		

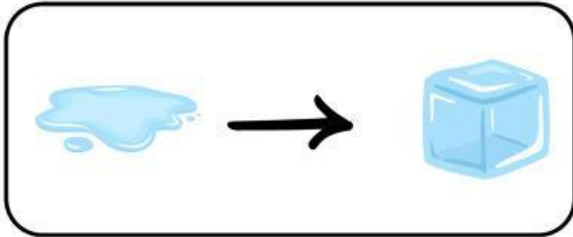


Nama :

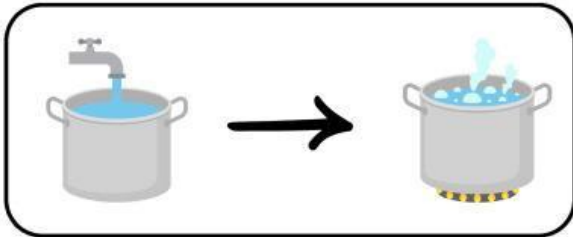
Kelas :

# Perubahan Wujud Benda

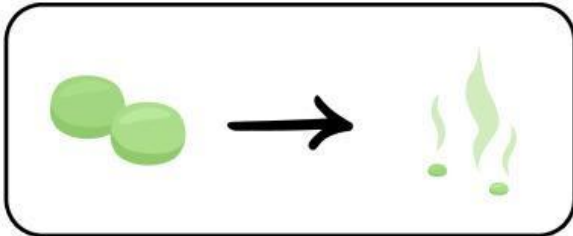
Hubungkan gambar perubahan wujud benda di bawah ini dengan namanya!



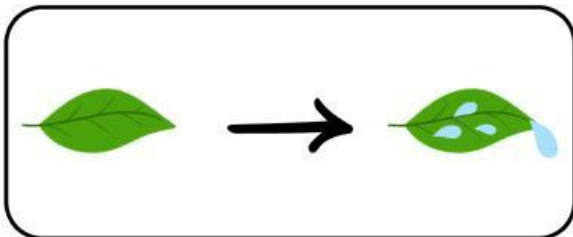
Mengembun



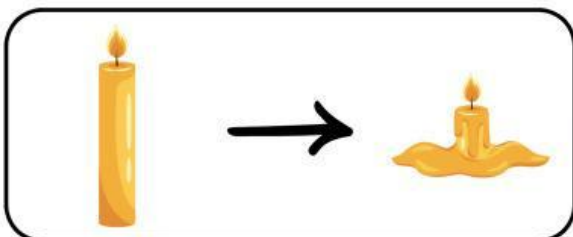
Mencair



Membeku



Menyublim



Menguap

Nama : \_\_\_\_\_

Kelas : \_\_\_\_\_



## PERUBAHAN WUJUD BENDA

Hubungkan perubahan wujud yang tepat dengan nama proses perubahan wujudnya!



Mencair



Mengembun



Membeku



Menyublim



Menguap