



KELAS II  
SEKOLAH DASAR

# LKM

(LEMBAR KERJA MURID)

# MATEMATIKA

**BANGUN DATAR**

KURIKULUM  
MERDEKA  
2026

Nama : \_\_\_\_\_

Kelas : \_\_\_\_\_



# BANGTARIA

AYO BELAJAR BERSAMA DAN MENJADI KELOMPOK HEBAT!



Ingat yaaa!



Segitiga memiliki 3 sisi dan 3 titik sudut.



Segiempat memiliki 4 sisi dan 4 titik sudut.



Lingkaran tidak memiliki sisi dan tidak memiliki titik sudut.






## Aktivitas 1

## Ayo Mengamati!



Amati gambar benda di bawah ini dengan cermat!  
Tulis nama bangun datar dan minimal 2 perbedaan cirinya!

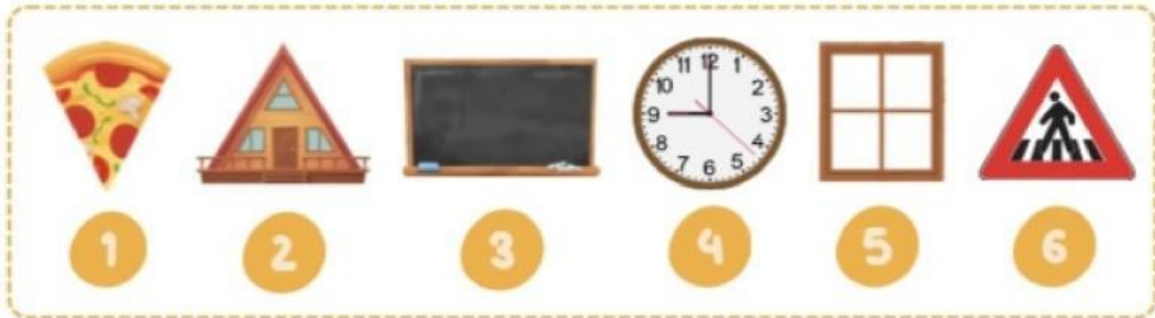
No.	Gambar Benda	Nama Bangun Datar	Ciri-ciri Bangun Datar (Tuliskan 2 Ciri-ciri nya!)
1.		.....	1. .... 2. ....
2.		.....	1. .... 2. ....
3.		.....	1. .... 2. ....



BERPIKIR TELITI, DISKUSI AKTIF, DAN HASIL PASTI HEBAT



Perhatikan gambar benda di bawah ini!  
Tuliskan nomor bangun datar yang sesuai pada kelompok yang tepat!



**SEGITIGA**

Tuliskan nomor benda disini:

**SEGIEMPAT**

Tuliskan nomor benda disini:

**LINGKARAN**

Tuliskan nomor benda disini:



Mengapa kamu mengelompokkan seperti itu?  
Tuliskan alasan kelompokmu!



.....



.....



.....

Yuk, Evaluasi Kelompok!

Kami beker ja sama dengan baik!

Kami berdiskusi dengan aktif!

Kami tidak bisa menger jakan

