




















## FICHA INTERACTIVA MATEMÁTICA– 3°

### FICHA DE REFUERZO - PICTOGRAMAS

**Propósito:** Que los niños y las niñas interpreten, analicen y obtengan información de pictogramas, desarrollando habilidades para leer datos, compararlos, responder preguntas y resolver situaciones sencillas relacionadas con la organización e interpretación de información gráfica.

#### 1 Observa el pictograma y responde.





##### Frutas favoritas de los niños

 Manzana	     
 Plátano	   
 Uvas	  
 Naranja	 

- ¿Cuál es la fruta que más les gusta a los niños?
- ¿Cuál es la fruta que menos les gusta?
- ¿Cuántos niños prefieren el plátano?
- ¿Cuántos niños prefieren la uva?

2 Observa el pictograma y marca la respuesta correcta.

Mascotas que tienen los niños

 Perro	
 Gato	
 Pez	
 Pájaro	

a) ¿Qué mascota tienen más niños?

- Perro       Gato       Pez       Pájaro







b) ¿Qué mascota tienen menos niños?

- Perro       Gato       Pez       Pájaro

c) ¿Cuántos niños tienen pez?


- 2       3       4       5

3.- Joaquín participa en un campeonato deportivo jugando por el club Miguel Grau. Para registrar los goles ha utilizado el pictograma. Observa el pictograma, completa y responde las preguntas.

Equipos	N° de goles  = 4 goles	Total
Once Estrellas		
Sport Los Leones		
Miguel Grau		
San Martín		
Unión Juventud		
	<b>Total</b>	

4.- Obtén datos de un pictograma:

 = 10 bicicletas



a) ¿Cuántas bicicletas se han vendido cada mes?

Enero	Febrero	Marzo	Abril	Mayo	Junio

b) ¿Cuántas bicicletas se han vendido en total entre abril y mayo?

Se han vendido \_\_\_\_\_ bicicletas.
