



LKPD

BANGUN DATAR

Perhatikan Video berikut ini



Perhatikan materi presentasi berikut ini





LKPD

BANGUN DATAR

1.

TEKSFIELD

Bangun datar segi empat yang keempat sisinya sama Panjang dan keempat sudutnya siku-siku atau 90 adalah....

2.

SINGLE CHOISE

Berikut ini yang bukan merupakan bangun datar Adalah.....

3.

CHECKBOXES

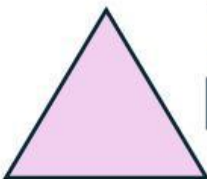
Pertanyaan yang benar Adalah.....

Persegi memiliki 4 sisi 1 lingkaran memiliki 6 sisi Segitiga memiliki 3 sisi

4.

SELECT

Nama bangun datar dibawah ini Adalah....



Perssegi



Segitiga



Persegi panjang



Lingkaran



LKPD

BANGUN DATAR

5. WORD SEARCH

Temukan 3 kata pada bentuk dibawah ini

S	S	I	S	I
M	U	L	I	N
O	S	D	K	T
O	K	C	U	K
U	G	K	M	I

6. SPEAK



Sebutkan nama bangun datar berikut dengan benar!




LKPD

BANGUN DATAR




7. LISTENING

Dengarkan suara berikut dan Tuliskan jawaban dengan tepat!



8 DRAG & DROP

Tentukan rumus yang sesuai dengan gambar

$$L = \frac{1}{2} \times \text{alas} \times \text{tinggi}$$

$$L = \text{Panjang} \times \text{lebar}$$

$$L = x \times r \times r$$



LKPD

BANGUN DATAR



JOIN

Buatlah garis ke jawaban yang benar



Persegi Panjang



Lingkaran



Segi empat