




# LKPD

## BANGUN DATAR

**Perhatikan video berikut ini :**



**Perhatikan materi presentasi berikut ini :**





# LKPD

## BANGUN DATAR

### 1 TEKSFIELD

Bangun datar segi empat yang keempat sisinya sama Panjang dan keempat sudutnya siku-siku atau  $90^\circ$  adalah....

### 2 SINGELCHOICE

Berikut ini yang bukan merupakan bangun datar adalah....

### 3 CHECKBOXES

Pernyataan yang benar adalah...

Persegi memiliki 4 sisi

Lingkaran memiliki 6

sisi Segitiga memiliki 3 sisi

### 4 SELECT

Nama bangun datar dibawah ini adalah...



persegi

segitiga

persegi panjang

lingkaran



# LKPD

## BANGUN DATAR

5

### WORD SEAERCH


Temukan tiga kata pada kotak di bawah ini:

|   |   |   |   |   |
|---|---|---|---|---|
| S | S | I | S | I |
| M | U | L | I | N |
| O | S | D | K | T |
| D | K | C | U | K |
| U | G | X | M | T |

6

### SPEAK

Sebutkan nama bangun datar berikut dengan tepat:



7

### LISTENING

Dengarkan suara berikut dan tuliskan dengan tepat:





# LKPD

## BANGUN DATAR

### 8 DRAG & DROP

Tentukan Rumus yang sesuai dengan gambar:



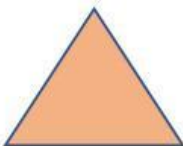
$$L = \frac{1}{2} \times \text{Alas} \times \text{tinggi}$$

$$L = \text{Panjang} \times \text{tinggi}$$

$$L = \pi \times r \times r$$

### JOIN

Buatlah garis ke jawaban yang benar!





# LKPD

BANGUN DATAR