

### Práctica 1 de Word

- |   |                         |
|---|-------------------------|
| a) <b>Control + X</b>                     | ( ) Copiar con Formato  |
| i) <b>Control + E</b>                     | ( ) Cursiva             |
| j) <b>Control + Z</b>                     | ( ) Justificar          |
| k) <b>Control + J</b>                     | ( ) Retroceder          |
| l) <b>Control + K</b>                     | ( ) Cortar              |
| m) <b>Control + G</b>                     | ( ) Adelantar o rehacer |
| n) <b>Control + Y</b>                     | ( ) Negrita             |
| o) <b>Control + C</b>                     | ( ) Pegar               |
| p) <b>Control + V</b>                     | ( ) Copiar              |
| q) <b>Control + N</b>                     | ( ) Guardar             |
| r) <b>Control</b><br><b>+Mayúscula+ C</b> | ( ) Seleccionar         |

Complete con el nombre correspondiente de los siguientes íconos de Word:



3



## Selección de Respuesta

1-Observe la siguiente imagen del procesador de texto Word:



La imagen anterior corresponde a una aplicación de la ventana denominada:

a-Formato de página.

b-Revisar

c- Correspondencia

d-Diseño de Página

-2-Observe la siguiente imagen de íconos del procesador de texto Word:



3-Tomando en cuenta los íconos anteriores el nombre de los íconos de arriba hacia abajo corresponden a:

a-Delante del texto, detrás del texto, en línea con el texto, estrecho, transparente, cuadrado y arriba y abajo.

b- Estrecho, transparente, cuadrado y arriba y abajo, delante del texto, detrás del texto, en línea con el texto.

c- En línea con el texto, cuadrado, estrecho, transparente, arriba y abajo, detrás del texto, delante del texto.

d- En línea con el texto, cuadrado, estrecho, transparente, arriba y abajo, delante del texto, detrás del texto.

4-Observe los siguientes íconos del procesador de texto Word:



Cual es el nombre de cada ícono, según el orden de izquierda a derecha se

a-relleno, sombreado, color de página, marca de agua, márgenes, bordes de página, saltos de página.

b- bordes de página, saltos de página, pegar, sombreado, color de página, marca de agua, márgenes.

c- pegar, sombreado, color de página, marca de agua, márgenes, bordes de página, saltos de página.

d- Color de relleno, sombreado, marca de agua, márgenes, bordes de página, saltos de página, color de página

5-Observe los siguientes íconos del procesador de texto Word:



Cual es el nombre de cada ícono, según el orden de izquierda a derecha se

a-relleno, sombreado, color de página, marca de agua, márgenes, bordes de página, saltos de página.

b- bordes de página, saltos de página, pegar, sombreado, color de página, marca de agua, márgenes.

c- pegar, sombreado, color de página, marca de agua, márgenes, bordes de página, saltos de página.

d- negrita, mostrar todo, interlineado, fuente, borrar formato, copiar formato y tachado.

6 -Observe el siguiente ícono del procesador de texto Word:



Cómo se llama el ícono anterior:

a-Etiquetas

b- correspondencia

c- carta

d- sobre

7-Observe el siguiente ícono del procesador de texto Word:



Cómo se llama el ícono anterior: a-Estilo de Texto b- Word art c- Texto d-Fuente

8-Observe los siguientes íconos del procesador de texto Word:



Cómo se llaman los íconos anteriores:

a-Estilo de Texto, número de página, formas, numeración, sangría, proyector, encabezado, nota al pie de la página. b- Word art, numeración, imágenes, viñetas, proyector, título, nota al pie de la página. c- Columnas, número de página, formas, viñetas, imagen, encabezado, pie de página. d- Párrafos, número de página, formas, numeración, imagen, encabezado, pie de página.

9-Observe los siguientes íconos del procesador de texto Word:



Cómo se llaman los íconos anteriores:

a-taba, negrita, cursiva, Mayúscula-minúscula, alineado a la izquierda, centrado, justificado, alineado a la derecha. b- tabla, negrita, cursiva, Mayúscula-minúscula, alineado a la derecha, centrado, justificado, alineado a la izquierda. c- tabla, cursiva, subrayado, cambiar Mayúscula-minúscula, alineado a la derecha, centrado, justificado, alineado a la izquierda. d- bordes, cursiva, subrayado, cambiar Mayúscula-minúscula, alineado a la derecha, centrado, justificado, alineado a la izquierda.



Según el orden, ¿cuál es el nombre correcto de cada ícono?

a-I Color de resaltado de texto, II Copiar, III Espaciado entre líneas y párrafos.

b-I Color de resaltado de texto, II Pegar, III Disminuir sangría.

c- I Color de fuente, II Pegar, III Disminuir sangría.

d-I Efectos de texto, II Cortar, III Numeración.

10-Observe las siguientes opciones



La figura anterior corresponde a la opción de Word llamada:

- a) Párrafo
- b) Estilos
- c) Letras
- d) Fuentes

11-Observe la siguiente figura:

4



La figura anterior corresponde a la opción de Word llamada:

- a) Párrafo
- b) Estilos de Texto
- c) Letras
- d) Párrafo anterior

12-Observe la siguiente figura:



La figura anterior corresponde a la opción de Word llamada:

- a) Bote
- b) Pintura
- c) Resaltado
- d) Reglón resaltado

13-Observe la siguientes figuras:

La figura anterior corresponde a las opciones de Word llamadas:



- a) 1-Párrafo-2-estilos de texto-3-letras-4-números izquierda-5-número derecha
- b) 1-Párrafo-2-estilos de texto-3-letras-4-sangría a la izquierda-5-sangría a la derecha
- c) 1-Viñetas-2-numeración-3-multinivel-4-disminución de sangría-5-aumento de sangría
- d) 1-Numeración-2-Viñetas-3-multinivel-4-disminución de sangría-5-aumento de sangría

14-




a) figuras:

La figura anterior corresponde a las opciones de Word llamadas:

I

Es más fácil flotar en el Mar Muerto que en un océano. Mientras más alto sea el contenido de sal, el agua es más densa y se flota mejor. Aunque los océanos están llenos de agua salada no son los cuerpos de agua que contienen más sal. Tanto el Mar Muerto en Israel, así como el Gran Lago Salado de Utah son más salados.



II

Los Científicos saben más acerca de la superficie de la luna que del fondo del mar. El agua de los océanos cubre el 71 por ciento de la superficie de la Tierra. Sin embargo, más de las dos terceras partes de la tierra debajo de ellos no ha sido explorada. En realidad, sólo el cinco por ciento del fondo del océano ha sido registrado en mapas.

III

De acuerdo con el texto anterior, ¿Cuáles íconos se emplearon, según la numeración indicada?

- a- I Imagen, II Letra capital, III Borde
- b- I Columnas, II Letra capital, III Borde
- c- I Columnas, II Letra capital, III Borde
- d- I Imagen, II Mayúscula, III Borde

40-Observe los siguientes iconos del procesador de texto Word:



Los íconos señalados con los números I, II y III, respectivamente se denominan:

- a- I control de cambios - II nuevo comentario - III ortografía y gramática
- b- I nuevo comentario - II comparar - III traducir
- c- I traducir - II proteger documento - control de cambios
- d- I comparar - II control de cambios - III proteger documento

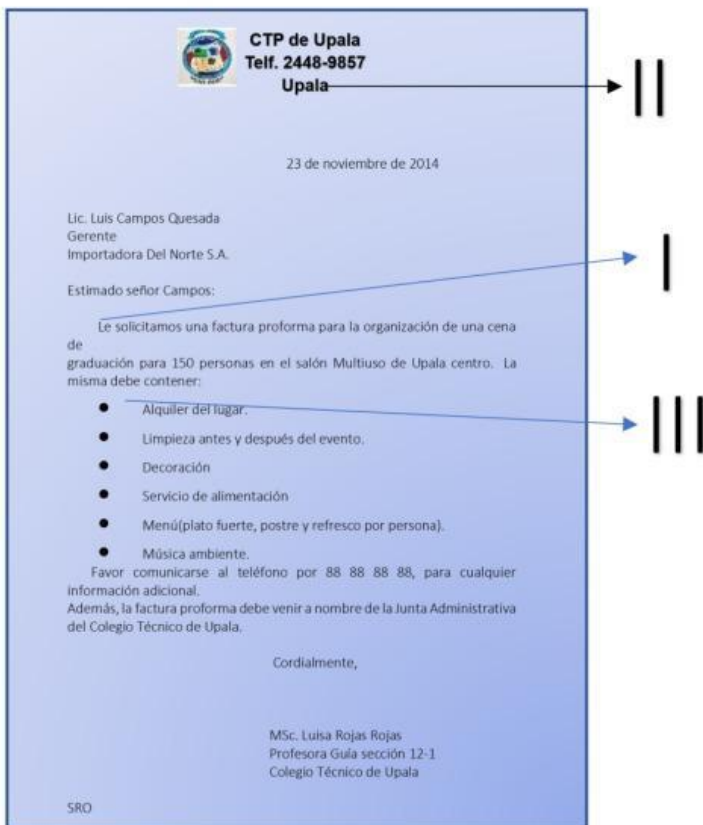
41--Considere el siguiente documento editado en un procesador de textos



Según el documento anterior, ¿Qué configuración se le aplicó a las partes señaladas los números I, II y III, respectivamente?

- a- WordArt - Letra capital - Imágenes prediseñadas
- b- Estilos - Agrandar fuente - Formas
- c- Letra capital - WordArt - Imagen
- d- Cuadro de texto - Subíndice - Proteger Documento

42- Considere el siguiente documento editado en un procesador de textos:



Según el documento anterior, ¿qué configuración se le aplicó a las partes señaladas con los números I, II, III, respectivamente?

- a- Negrita - Letra capital - Viñetas
- b- Letra capital - WordArt - Imagen
- c- Sangría francesa - Negrita - Viñetas
- d- Cursiva - Sombreado - Numeración

43- Una secretaria digita un memorando para solicitar la lista de documentos que cada departamento debe presentar en la próxima reunión. Ella requiere pasar el título a mayúscula total y aumentar la sangría a la lista mencionada. Ella observa en la cinta de "Inicio" las siguientes opciones:



Basándose en los íconos anteriores, ¿qué número debe utilizar la secretaria para "cambiar mayúscula" y "aumentar sangría" respectivamente?

- a- 4 y 3
- b- 1 y 2
- c- 2 y 3
- d- 3 y 1

44-Lea la siguiente información referente a un procesador de texto:

Estrés: es una reacción fisiológica del organismo en el que *entran en juego diversos mecanismos de defensa* para afrontar una situación que se percibe como amenazante o de ~~demanda incrementada~~







¿Cuáles íconos se utilizaron para realizar las aplicaciones anteriores, en el orden respectivo?  
a- b-

c- d-

45-Observe el título en Word Art

## Destrezas Computacionales

Seleccione la opción que permita cambiar el color de la letra del Word Art:

- a- 
- b- 
- c- 
- d- 

45-Observe el título en Word Art

Destrezas Computacionales

Seleccione las opciones que le permitan transformar y girar en 3D la forma de la letra del Word Art:



- a-
- b-

**Anote los nombres de las partes de la carta correspondientes:**

{  Banco MisFinanzas ..., HEREDIA  
Teléfono:2293-8390  
misfinanzas@hotmail.com

{ 19 de julio de 2025  
BMF-TH-01-2025

{ Licda. Erika Bolaños Umaña  
Gerente General  
Talento Humano

{ Estimada Señora:

{ Se le informa que el próximo martes 26 de julio no puedo asistir a laborar;  
esto porque tengo agendada una cita médica. Quedo atenta a su respuesta.

{ Se despide,

{ Srta. Cristal Canales Lau  
Secretaria Ejecutiva  
Talento Humano

{ CCL

{ Anexo 1

{ CC. MSc. Jessica Ramírez Calvo  
Gerente General  
Contabilidad

## Respuesta Corta

### Clasificación de los Dispositivos.

Indique si los dispositivos son de entrada o salida:

