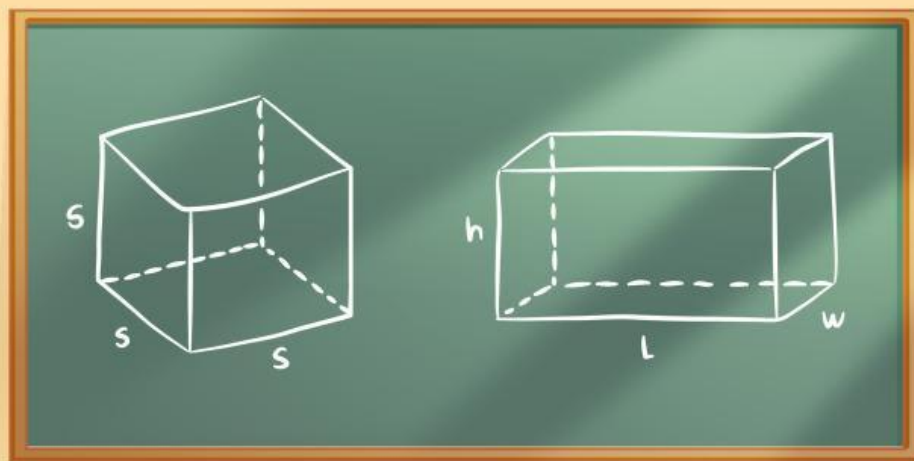


LKPD

MATEMATIKA

KELAS 8 - SMP



Nama:

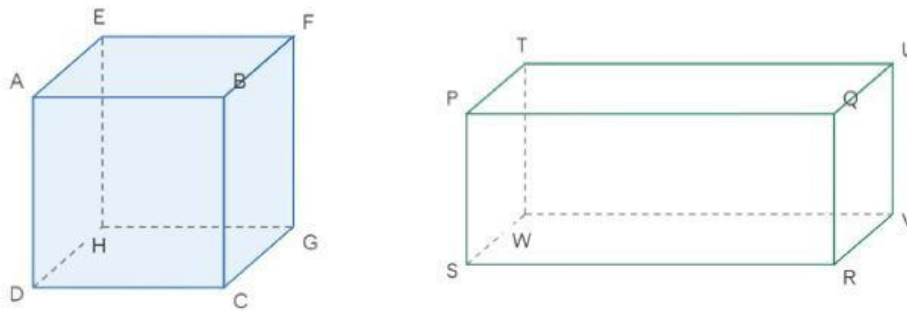
Kelas:
LIVEWORKSHEETS




STIMULATION

10 Menit

Perhatikan gambar kubus dan balok di bawah ini!



Berikut sekumpulan gambar benda nyata yang berbentuk kubus dan balok.



Jawab Pertanyaan Berikut

1. Setelah mengamati gambar dan benda-benda tersebut, tuliskan satu hal yang ingin kamu ketahui tentang bentuk kubus dan balok.

Jawab: _____



IDENTIFIKASI MASALAH

10 Menit

Rumuskan pertanyaan tentang banyaknya sisi, rusuk, dan titik sudut pada kubus dan balok.

.....

.....

.....

.....

.....



PENGUMPULAN DATA

10 Menit

Amatilah gambar kubus dan balok di halaman sebelumnya, kemudian isi kolom di bawah ini!

Unsur	Kubus	Balok
Banyak sisi		
Banyak rusuk		
Banyak titik sudut		

Menurutmu, apakah banyak sisi, rusuk, dan titik sudut kubus akan sama dengan balok? Jelaskan alasanmu.

Jawab: _____
