

# MATEMATIKA

# LKPD

Kelas 4  
Sekolah Dasar



Nama:

Kelas:

Nama:

Kelas:

































Tanggal:



# Penyajian Data



Perhatikan data buah kesukaan siswa kelas 4!

Lengkapi tabel berikut menggunakan turus sesuai data buah kesukaan siswa kelas 4!






Buah	Turus	Banyak Siswa
 Apel		
 Angggur		
 Pisang		
 Jeuk		
 Semangka		




# Membuat Tabel



Pindahkan hasil turus ke dalam tabel berikut!

Jenis Buah	Banyak Siswa
 Apel	
 Anggur	
 Pisang	
 Jeruk	
 Semangka	
<b>Jumlah</b>	











# Membuat Diagram



## A. Diagram Gambar (Piktogram)

Gunakan simbol  = 1 siswa

Buatlah diagram gambar berdasarkan tabelmu!

Jenis Buah	Jumlah Siswa
 Apel	
 Anggur	
 Pisang	
 Jeruk	
 Semangka	
<b>Jumlah</b>	

## B. Diagram Batang

Buatkan diagram batang berdasarkan tabelmu!





# Menarik Kesimpulan



---

Jawablah pertanyaan-pertanyaan berikut.  
berdasarkan diagram yang kamu buat!

1. Buah apa yang paling banyak disukai teman-temanmu?

---

2. Buah apa yang paling sedikit disukai teman-teman?

---

3. Berapa jumlah siswa yang menyukai jeruk?

---

4. Berapa selisih jumlah siswa yang menyukai apel dan semangka?

---

5. Apa kesimpulan yang dapat kamu buat dari data tersebut?

---

---

---