

# LKPD

LEMBAR KERJA PESERTA DIDIK

## MATEMATIKA

Materi: Perkalian

Petunjuk:

- 1 Bacalah soal dengan teliti.
- 2 Hitung jumlah benda menggunakan perkalian.
- 3 Tuliskan jawaban pada kotak yang tersedia.

Nama : .....

Kelas : .....

Tanggal : .....

Ayo Menghitung dengan Perkalian!





1



Ada 3 kelompok, setiap kelompok berisi 5 ekor sapi.

$$3 \times 5 = \underline{\quad}$$



2



4 kelompok ayam, setiap kelompok berisi 2 ekor ayam.

$$4 \times 2 = \underline{\quad}$$


3



2 kelompok kambing, setiap kelompok berisi 6 ekor kambing.

$$2 \times 6 = \underline{\quad}$$

4



5 kelompok bebek, setiap kelompok berisi 3 ekor bebek.

$$5 \times 3 = \underline{\quad}$$

5



3 kelompok ikan, setiap kelompok berisi 4 ekor ikan.

$$3 \times 4 = \underline{\quad}$$

Nilai : .....

Paraf Guru : .....



# LKPD

LEMBAR KERJA PESERTA DIDIK

## MATEMATIKA

Materi: Pembagian

### Petunjuk:

- 1 Bacalah soal dengan teliti.
- 2 Hitung jumlah benda menggunakan pembagian.
- 3 Tuliskan jawaban pada kotak yang tersedia.

Nama : .....

Kelas : .....


Tanggal : .....



Ayo Menghitung dengan Pembagian!



1



Ada 15 ekor sapi. Dibagi sama banyak ke dalam 3 kelompok.  
Berapa banyak sapi di setiap kelompok?

$$15 \div 3 =$$


2



Ada 12 ekor ayam. Dibagi sama banyak ke dalam 4 kelompok.  
Berapa banyak ayam di setiap kelompok?

$$12 \div 4 =$$


3



Ada 21 buah apel. Dibagi sama banyak ke dalam 3 keranjang.  
Berapa banyak apel di setiap keranjang?

$$21 \div 3 =$$


4



Ada 20 ekor anak ayam. Dibagi sama banyak ke dalam 5 kelompok.  
Berapa banyak anak ayam di setiap kelompok?

$$20 \div 5 =$$

5



Ada 16 ekor ikan. Dibagi sama banyak ke dalam 4 kelompok.  
Berapa banyak ikan di setiap kelompok?

$$16 \div 4 =$$



Blank box for student name and score.

Nilai : .....





# LKPD

LEMBAR KERJA PESERTA DIDIK

## MATEMATIKA

Materi: Perkalian

### Petunjuk:

- 1 Bacalah soal dengan teliti.
- 2 Kerjakan soal dsngan cara menuliskan jawaban pada bagian yang tersedia.
- 3 Periksa kembali jawabanmu sebelum dikumpulkan.

Nama : .....

Kelas : .....

Tanggal : .....

Kerjakan Soal Esai Berikut!

1




Ada 3 kelompok sapi, setiap kelompok berisi 5 ekor sapi.

Berapa jumlah seluruh sapi?

Jawab:

.....  
.....

2




Ada 4 kelompok ayam, setiap kelompok berisi 2 ekor ayam.

Berapa jumlah seluruh ayam?

Jawab:

.....  
.....

3



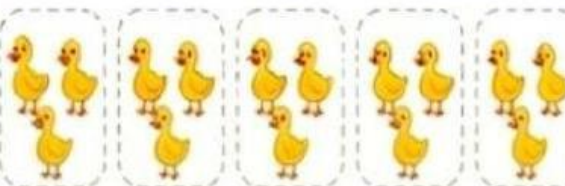
Ada 2 kelompok kambing, setiap kelompok berisi 6 ekor kambing.

Berapa jumlah seluruh kambing?

Jawab:

.....  
.....

4



Ada 5 kelompok bebek, setiap kelompok berisi 3 ekor bebek.

Berapa jumlah seluruh bebek?

Jawab:

.....  
.....

5



Ada 3 kelompok ikan, setiap kelompok berisi 4 ekor ikan.

Berapa jumlah seluruh ikan?

Jawab:

.....  
.....



Nilai : .....

Paraf Guru : .....





# LKPD

LEMBAR KERJA PESERTA DIDIK

## MATEMATIKA

Materi: Pembagian

### Petunjuk:

- 1 Bacalah soal dengan teliti.
- 2 Cocokkan soal pembagian di sebelah kiri dengan hasil yang benar di sebelah kanan dengan menarik garis.
- 3 Pastikan setiap soal memiliki satu jawaban yang tepat.

Nama : .....

Kelas : .....

Tanggal : .....



### Tantangan Hebat!



Cocokkan soal pembagian dengan hasilnya yang benar!

$15 \div 3$



2

3

5

$20 \div 4$



4

5

6

$18 \div 2$



6

8

9

$24 \div 6$



3

4

5

$21 \div 7$



2

3

4



Nilai :

Paraf Guru : .....





# LKPD

LEMBAR KERJA PESERTA DIDIK

# MATEMATIKA

Materi: Perkalian

### Petunjuk:

- 1 Bacalah soal dengan teliti.
- 2 Lengkapilah tabel dengan tepat.
- 3 Tuliskan jawaban pada kotak yang tersedia.

Nama : .....

Kelas : .....

Tanggal : .....

Lengkapilah tabel berikut!

1


Ada 2 kelompok sapi, setiap kelompok berisi 5 ekor sapi.



Banyak Kelompok	Banyak Tiap Kelompok	Kalimat Perkalian	Hasil Perkalian
.....	5	..... x ..... = .....	.....

2

Ada beberapa kelompok ayam, setiap kelompok berisi 2 ekor ayam.



Banyak Kelompok	Banyak Tiap Kelompok	Kalimat Perkalian	Hasil Perkalian
.....	2	..... x ..... = .....	.....

3

Ada beberapa kelompok kambing, setiap kelompok berisi 6 ekor kambing.



Banyak Kelompok	Banyak Tiap Kelompok	Kalimat Perkalian	Hasil Perkalian
.....	6	..... x ..... = .....	.....

4


Ada 4 kelompok bebek, setiap kelompok berisi 3 ekor bebek.



Banyak Kelompok	Banyak Tiap Kelompok	Kalimat Perkalian	Hasil Perkalian
.....	4	..... x ..... = .....	.....

5

Ada beberapa kelompok ikan, setiap kelompok berisi 4 ekor ikan.



Banyak Kelompok	Banyak Tiap Kelompok	Kalimat Perkalian	Hasil Perkalian
.....	4	..... x ..... = .....	.....

Nilai :

Paraf Guru : .....



# LKPD

LEMBAR KERJA PESERTA DIDIK

# MATEMATIKA

Materi: Perkalian

### Petunjuk:

- 1 Bacalah soal dengan teiti.
- 2 Pilih pasangan jawaban yang benar.
- 3 Beri tanda (✓) pada jawaban yang kamu pilih.

Nama : .....


Kelas : .....

Tanggal : .....

Pilih pasangan perkalian yang hasilnya benar!

1

Ada 2 kelompok sapi, setiap kelompok berisi 5 ekor sapi. Berapa jumlah seluruh sapi?







$2 \times 5 = 10$

$5 \times 2 = 12$

2

Ada 4 kelompok ayam, setiap kelompok berisi 2 ekor ayam. Berapa jumlah seluruh ayam?






$4 \times 2 = 6$

$2 \times 4 = 8$

$4 \times 3 = 12$

3

Ada 4 kelompok buah mangga, setiap kelompok berisi 4 buah mangga. Berapa jumlah seluruh buah mangga?



$4 \times 4 = 16$

$3 \times 4 = 12$

$4 \times 3 = 12$

4

Ada 5 kelompok bebek, setiap kelompok berisi 3 ekor bebek. Berapa jumlah seluruh bebek?



$3 \times 5 = 15$

$5 \times 3 = 15$

$5 + 3 = 8$

5

Ada 3 kelompok ikan, setiap kelompok berisi 4 ekor ikan. Berapa jumlah seluruh ikan?



$3 \times 4 = 7$

$3 \times 4 = 12$

$4 \times 4 = 12$



Nilai:

Paraf Guru:





# LKPD

LEMBAR KERJA PESERTA DIDIK

## MATEMATIKA

Materi: Pembagian

Petunjuk:

- 1 Bacalah soal dengan teliti.
- 2 Lengkapilah label! dengan tepat.
- 3 Tuliskan jawaban pada kotak yang tersedia.

Nama : .....

Kelas : .....

Tanggal : .....


Lengkapilah tabel berikut!

- 1 Ada 3 kelompok sapi, setiap kelompok berisi 5 ekor sapi.



Jumlah Sapi	Banyak Kelompok	Sapi Tiap Kelompok	Kalimat Pembagian	Hasil Pembagian
15	3	5	$15 \div 3 = 5$	5

- 2 Ada beberapa kelompok ayam, setiap kelompok berisi 2 ekor ayam.



Jumlah Ayam	Banyak Kelompok	Ayam Tiap Kelompok	Kalimat Pembagian	Hasil Pembagian
12	4	.....	$18 \div 4 = \dots\dots$	.....

- 3 Ada 4 kelompok bebek, setiap kelompok berisi 5 ekor bebek. Berapa jumlah seluruh bebek?



Jumlah Bebek	Banyak Kelompok	Bebek Tiap Kelompok	Kalimat Pembagian	Hasil Pembagian
20	4	.....	$\dots \div 4 = \dots\dots$	.....

- 4 Ada 3 kelompok buah mangga, setiap kelompok berisi 6 buah mangga. Berapa jumlah seluruh buah mangga?



Jumlah Mangga	Banyak Kelompok	Mangga Kelompok	Kalimat Pembagian	Hasil Pembagian
18	3	.....	$18 \div 3 = \dots\dots$	.....

Nilai : .....

Paraf Guru : .....



# LKPD

LEMBAR KERJA PESERTA DIDIK

## MATEMATIKA

Materi: Perkalian

### Petunjuk:

- 1 Bacalah soal dengan teliti.
- 2 Cocokkan soal perkalian di sebelah kiri dengan hasil yang benar di sebelah kanan dengan menarik garis.
- 3 Pastikan setiap soal memiliki satu jawaban yang tepat.

Nama : .....

Kelas : .....

Tanggal : .....



### Tantangan Hebat!

Cocokkan soal perkalian dengan hasilnya yang benar!



$2 \times 5$

•

10

12

15

$3 \times 3$

•

6

9

12

$4 \times 4$

•

12

16

20

Nilai :

Paraf Guru : .....

