

Actividad: Resuelve las restas

Nombre: _____ **Fecha:** _____

Instrucción: Realiza las siguientes restas y escribe el resultado.

$9 - 3 = \underline{\quad}$

$8 - 5 = \underline{\quad}$

$7 - 2 = \underline{\quad}$

$10 - 4 = \underline{\quad}$

$6 - 1 = \underline{\quad}$

$12 - 5 = \underline{\quad}$


$15 - 7 = \underline{\quad}$


$14 - 6 = \underline{\quad}$


$18 - 9 = \underline{\quad}$


$20 - 8 = \underline{\quad}$

RESTA

$ 8 - 3 = \square$

$ 10 - 5 = \square$

$ 12 - 4 = \square$

$ 15 - 7 = \square$

$ 9 - 6 = \square$