



PEMERINTAH KABUPATEN BADUNG  
DINAS PENDIDIKAN, KEPEMUDAAN, DAN OLAH RAGA  
UPT. DINAS PENDIDIKAN, KEPEMUDAAN, DAN OLAH RAGA  
KEC. KUTA SELATAN

SEKOLAH DASAR NO. 8 UNGASAN

NSS. 101220406033 NIS. 102480 NPSN. 50101677

Alamat: Jl. GWK, Br. Giri Dharma Ungasan, Kec. Kuta Selatan, Email : [sdno8ungasan@gmail.com](mailto:sdno8ungasan@gmail.com)



Satuan Pendidikan : SD No. 8 Ungasan  
Mata Pelajaran : Tema 7 Subtema 3 Matematika  
Materi : Menghitung Keliling dengan Satuan Tidak Baku  
Guru / Pengajar : Ni Luh Candra Putri Mahardika, S.Pd

Nama :

Kelas :

No. Absen :



A. Simaklah video berikut, dan jawablah pertanyaan dibawah ini !



Bangun datar yang terdapat dalam video tersebut adalah



## B. Dengarkanlah lagu dibawah ini !

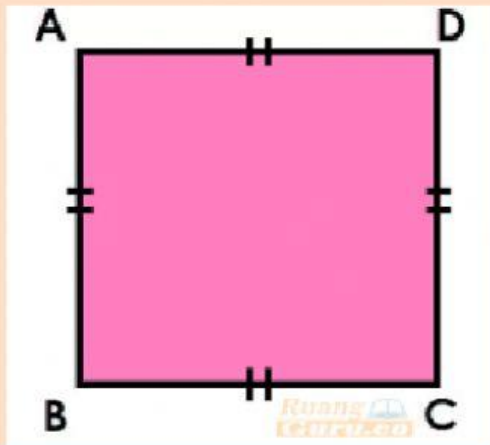


## C. Open Answer

Coba kamu salin Kembali lirik tentang lagu yang sudah kamu dengar pada kotak dibawah ini!

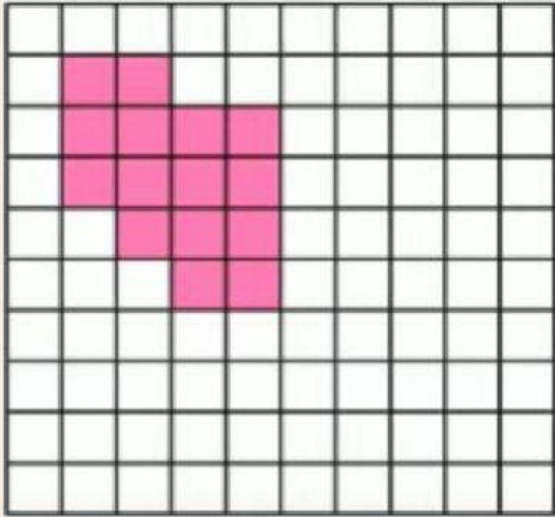
## D. Drop Down

Nama bangun datar dibawah ini adalah



### E. Pilihan Ganda

Keliling bangun dibawah ini adalah...satuan panjang



A. 10


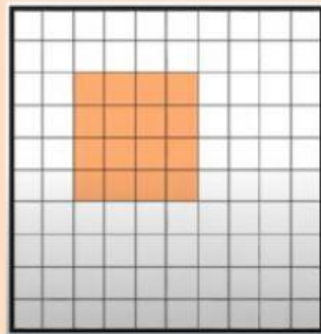

B. 15

C. 18

D. 20

### F. Kotak Centang

Berikut ini, bangun yang memiliki keliling 28 satuan panjang adalah...





## G. Menjodohkan dengan garis

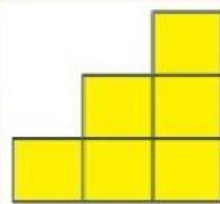
Hitunglah keliling masing-masing bangun, kemudian tarik garis dengan hasil kelilingnya !

10 satuan panjang

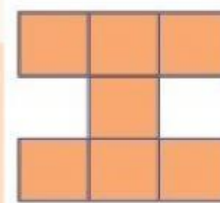
12 satuan panjang

16 satuan panjang

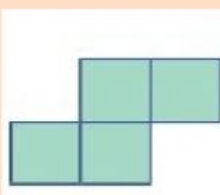
A



B



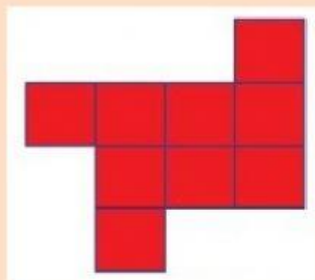


C



## H. Drag & Drop

Klik dan geser gambar untuk mengurutkan metamorphosis kodok yang benar !



10 satuan panjang



12 satuan panjang



16 satuan panjang