










# Evaluación Matemática






Nombre: \_\_\_\_\_

- Lea las instrucciones y resuelva los ejercicios

1. Arrastre el signo según corresponda en cada fila (mayor que- menor que- igual)

74	<input type="text"/>	64			
28	<input type="text"/>	28			
35	<input type="text"/>	53			

2. Realice la siguiente secuencia numérica

  $+2$    $+3$    $+2$    $+5$  

3. Una con una líneas las expresiones que indiquen la misma cantidad

	<input type="text"/>	ochenta y dos	<input type="text"/>	$8+4$	
	<input type="text"/>	catorce	<input type="text"/>	$10+5$	
	<input type="text"/>	veinte	<input type="text"/>	$29+2$	
	<input type="text"/>	cuarenta y cinco	<input type="text"/>	$18+5$	

¡Lo hiciste fabuloso!

