

# AYO BERMAIN DENGAN SUDUT

Nama: \_\_\_\_\_

Kelas: \_\_\_\_\_

## Sudut apa ini?



Sudut lancip



# AYO BERMAIN DENGAN SUDUT

Nama: \_\_\_\_\_

Kelas: \_\_\_\_\_

## Hubungkan dengan Jawaban yang Tepat

30°

Sudut  
Tumpul

90°

Sudut  
Lurus

120°

Sudut  
Lancip

180°

Sudut  
Siku-Siku

# AYO BERMAIN DENGAN SUDUT

Nama: \_\_\_\_\_

Kelas: \_\_\_\_\_

Beri tanda centang (✓) pada benda yang memiliki sudut siku-siku!

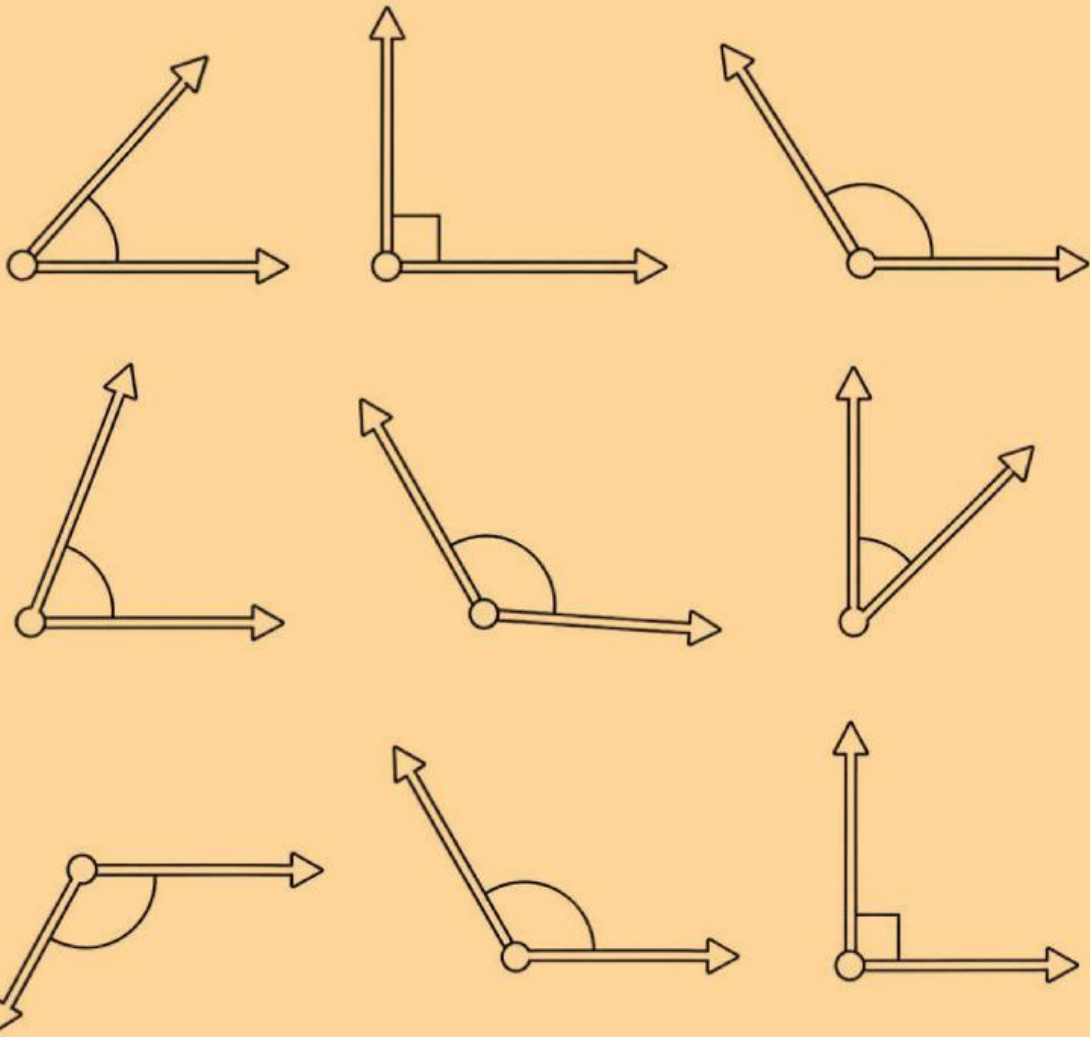


# AYO BERMAIN DENGAN SUDUT

Nama: \_\_\_\_\_

Kelas: \_\_\_\_\_

Klik yang merupakan sudut lancip!



# AYO BERMAIN DENGAN SUDUT

Nama: \_\_\_\_\_

Kelas: \_\_\_\_\_

Membentuk sudut apa jam ini?



Sudut  
Siku-siku



# AYO BERMAIN DENGAN SUDUT

Nama: \_\_\_\_\_

Kelas: \_\_\_\_\_

Hitung jumlah masing-masing  
jenis sudut pada gambar  
rumah berikut!



**Sudut lancip:**

6

**Sudut siku-siku:**


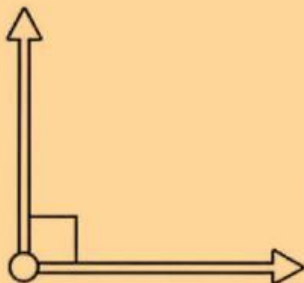
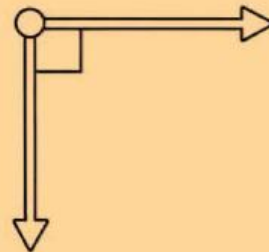
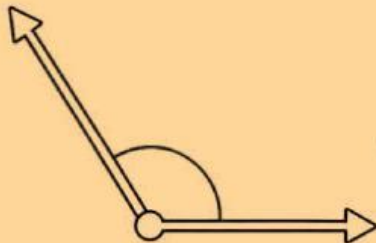
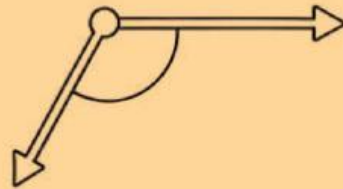

**Sudut tumpul:**

# AYO BERMAIN DENGAN SUDUT

Nama: \_\_\_\_\_

Kelas: \_\_\_\_\_

Hubungkan sesama jenis  
sudutnya



# AYO BERMAIN DENGAN SUDUT

Nama: \_\_\_\_\_

Kelas: \_\_\_\_\_

## Gambar jarum jam sudut

**Jam 15.30**




**Sudut: Siku-siku**

**Jam 06:00**



**Sudut:**

**Jam 13:15**



**Sudut:**

**Jam 10:15**



**Sudut:**