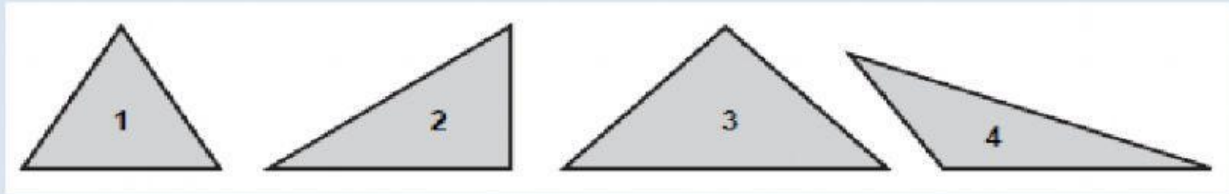


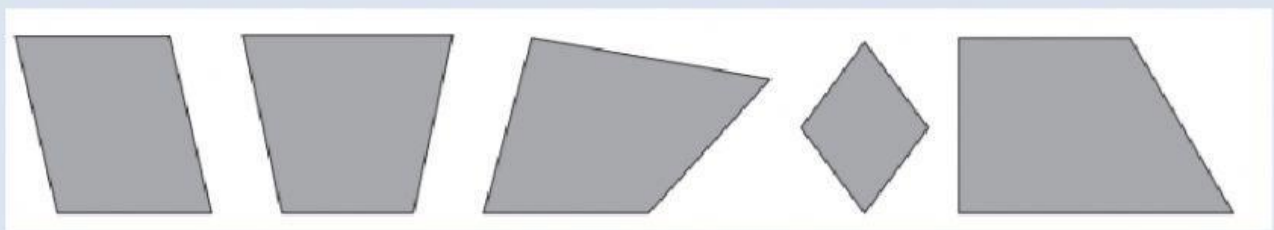
# LOS POLÍGONOS

1. Clasifica estos triángulos según sus lados y según sus ángulos.



	SEGÚN SUS LADOS			SEGÚN SUS ÁNGULOS		
	Equilátero	Isósceles	Escaleno	Rectángulo	Acutángulo	Obtusángulo
1						
2						
3						
4						

2. Clasifica estos cuadriláteros.




3. Arrastra y pon el nombre a estos paralelogramos.

ROMBO

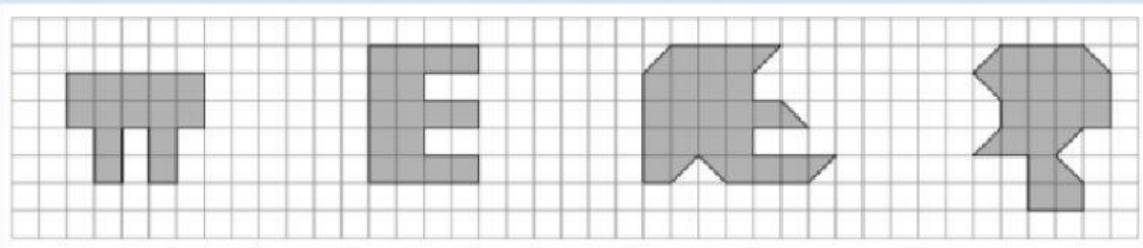
CUADRADO

ROMBOIDE

RECTÁNGULO



4. Cuenta los cuadrados que forman cada figura y escribe cuál es su área.



\_\_\_\_\_ cuadrados

\_\_\_\_\_ cuadrados

\_\_\_\_\_ cuadrados

\_\_\_\_\_ cuadrados

5. Busca 6 palabras relacionadas con los polígonos.

Y I O E S C A L E N O W  
C U A D R A D O V W A W  
E T R A P E Z O I D E Z  
C J R H P K H D F A T U  
C E O B M O R I S H H Z  
O B T U S A N G U L O E  
T O Q T R A P E C I O E  
A M Q P N R O T I P G M  
B V T G E C S F P J D K  
A D P N J J K G J I K H