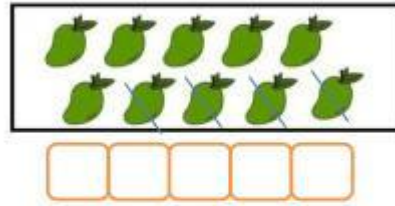
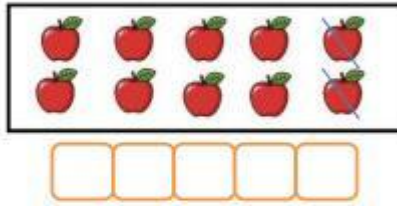


Họ và tên:

Ngày tháng năm 202...

PHIẾU TOÁN SỐ 44
Phép trừ trong phạm vi 10

1. Số?



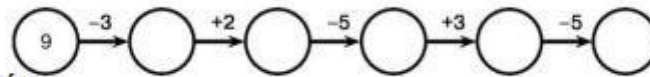
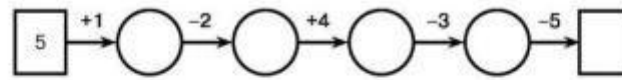
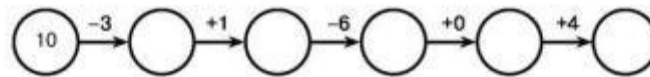
2. Số?

$1 + 9 = \dots$ $2 + 8 = \dots$ $3 + 7 = \dots$ $4 + 6 = \dots$

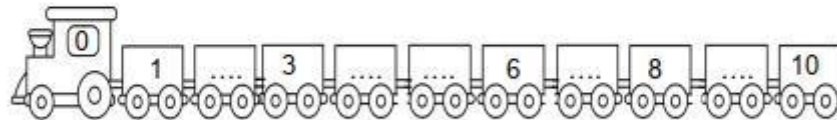
$10 - 1 = \dots$ $10 - 2 = \dots$ $10 - 3 = \dots$ $10 - 4 = \dots$

$10 - 8 = \dots$ $10 - 8 = \dots$ $10 - 7 = \dots$ $10 - 5 = \dots$

3. Số?



4. Số?



Biên soạn bởi: Cô Đoàn Hà, 08/2017
Biên soạn bởi: Giáo viên Đoàn Thị Hà