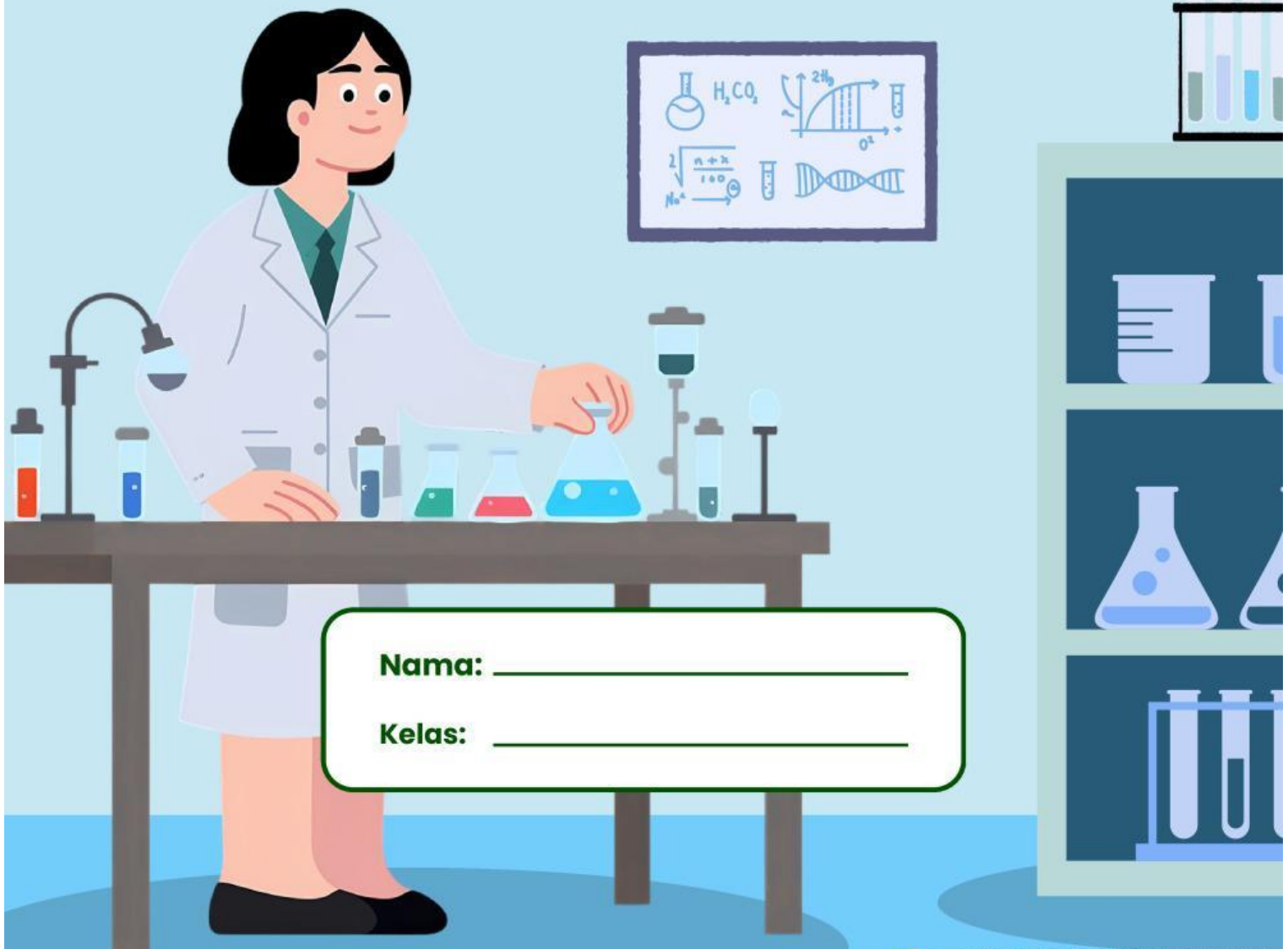


LKPD

PERUBAHAN WUJUD BENDA

Materi IPA Kelas IV



Nama: _____

Kelas: _____

PERUBAHAN WUJUD BENDA

Baca dengan cermat dan jawab pertanyaan di bawah ini!

1. Air yang dipanaskan di atas kompor terus-menerus dapat berubah menjadi



- A. Uap
B. Es
C. Kristal
D. Embun

2. Benda di bawah ini yang dapat meleleh adalah

- A. Air
B. kayu
C. Kapur barus
D. Mentega



3. Membeku merupakan perwujudan benda ... menjadi ...



- A. Gas - Cair
B. Cair - Padat
C. Gas - Padat
D. Cair - Gas

PERUBAHAN WUJUD BENDA

Bacalah pertanyaan di bawah ini, lalu jawablah pertanyaan dengan tepat!



Perubahan wujud benda cair menjadi padat disebut?

Perubahan wujud cair menjadi gas disebut?

Lilin, batu dan kayu merupakan wujud benda?

MENJODOHKAN BENDA

Hubungkan gambar benda yang sesuai dengan cara perubahan wujudnya!



Cair
menjadi
Gas



Gas
menjadi
Padat



Cair
menjadi
Padat



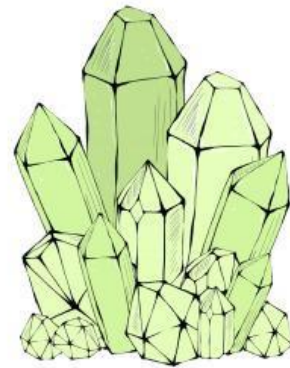

Padat
menjadi
Cair



Padat
menjadi
Gas

MENCOCOKKAN

Kelompokkan jenis perubahan wujud benda berikut!



gas - padat

cair - gas

padat - cair

cair - padat



TERIMA KASIH