



BELAJAR NILAI TEMPAT



Isilah jawaban di bawah ini dengan benar!

Nama :

Kelas :

A. Pilihan Ganda

1. Nilai tempat angka 7 pada bilangan 347 adalah ...
 - a. Satuan
 - b. Puluhan
 - c. Ratusan
 - d. Ribuan
2. Angka 5 pada bilangan 452 menempati nilai tempat ...
 - a. Satuan
 - b. Puluhan
 - c. Ratusan
 - d. Ribuan
3. Bilangan 286 memiliki angka 8 pada tempat ...
 - a. Satuan
 - b. Puluhan
 - c. Ratusan
 - d. Ribuan

TANAMAN



Panduan

Bacalah cerita berikut, lalu jawablah pertanyaannya.

Sungai Desa yang Mulai Tercemar

Di sebuah desa, ada sungai yang dulu bersih dan jernih. Warga menggunakan air sungai untuk menyiram tanaman dan mencuci. Namun, beberapa orang mulai membuang sampah ke sungai sehingga air menjadi keruh dan berbau tidak sedap.

Akibatnya, ikan-ikan di sungai berkurang dan lingkungan sekitar menjadi kotor. Warga desa pun mulai sadar bahwa sungai harus dijaga bersama. Mereka bekerja sama membersihkan sungai dan mengajak anak-anak untuk tidak membuang sampah sembarangan.

1. Masalah apa yang terjadi dalam cerita?

2. Apa penyebab sungai menjadi kotor?




3. Apa dampak sungai yang tercemar bagi lingkungan?

Nama:

Kelas:

Mencocokkan Gambar

Tarik garis untuk mencocokkan pot dan bunga mawar dengan warna yang sama!



Nama :

Kelas :

Kelompokkan benda sesuai jenisnya

Sayur

Buah

